

الصف الخامس



المادة علوم

الوحدة 1

إعداد أفضل العلماء

الدرس 4


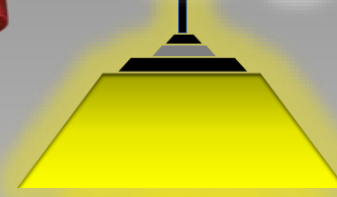
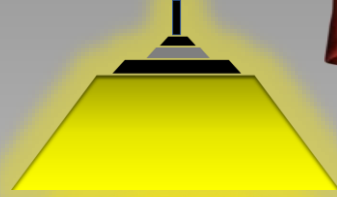

إجراء قياسات




Microsoft teams



قوانين وإرشادات التعلم عن بعد



عمار
AMAR





قوانين الصف والمواطنة الرقمية



- ✓ اتباع تعليمات المعلم.
- ✓ حضور كامل الحصة.
- ✓ عدم الخروج إلا بإذن.
- ✓ الالتزام بالزي المدرسي.
- ✓ جميع المحادثات مسجلة.

- ✓ عدم مقاطعة عملية التعلم.
- ✓ الاحترام المتبادل مع زملائك.
- ✓ عدم الأكل والشرب أثناء الحصة.
- ✓ المشاركة والتعاون والتفاعل الإيجابي.
- ✓ المحافظة على جهاز الحاسوب المحمول.

- ✓ معرفة جدول وأوقات الحصص الإلكترونية.
- ✓ إحضار الكتاب المدرسي والدفتري والأدوات اللازمة.
- ✓ التأكد من جاهزية الاتصال قبل الحصة بوقت كاف.
- ✓ يمنع تسجيل الحصص الإلكترونية، لأنه سيعرضك للمساءلة القانونية.

قواعد السلامة الصحية من فيروس كوفيد-19



ارتدي الكمامة



اغسل اليدين جيداً



احرص على تغطية الفم والأنف
عند العطاس



عدم لمس العينين والفم والأنف
بأيدي غير مغسولة



تجنب الإتصال مع أشخاص
حاملين للمرض



طهر الأماكن بين الحين والآخر


حضور وغياب الطلاب إلكترونياً على


L.M.S



مع الطلبة المسؤولين عن سجل الغياب







نواتج التعلم

● يقوم بقياس بعض الخصائص الفيزيائية
● يصف كيف يتم قياس الكتلة والوزن
● تجربة: كيف تستطيع تصنيف الأجسام؟ (دليل الأنشطة ص 19)
● تجربة: مقارنة الكتلة والوزن (دليل الأنشطة ص 22)
● مراجعة الدرس 4-1 إجراء قياسات
● مراجعة الوحدة 1 - إعداد أفضل العلماء
● التحضير للاختبار

رمز ناتج التعلم	ناتج التعلم
SCI.1.1.01.013	يبني القدرة على الملاحظة والاستدلال والمقارنة والتواصل والتصنيف والترتيب والاستنتاج واستخدام العلاقات الزمانية المكانية

أَنْظُرُ وَتَسَاءَلُ

يُمْكِنُ مَلاحِظَةَ العَدِيدِ مِنْ خِصائِصِ المادَّةِ أَوْ قِياسِها
بِاسْتِخدامِ الأَدواتِ الَّتِي يَسْتُخِدمُها العُلَماءُ.

مقاييس, موازين, مساطر

السؤال الرئيسي
كيف يُمكنُ قِياسُ خِصائِصِ
الأشياء؟

يمكن قياس الأشياء بأدوات القياس العلمية
كالمسطرة المترية أو عصا القياس أو الموازين ..



إجراء
قياسات

5/2 5/1



- أشياء مُتعدِّدة أَحْصَرها مُعَلِّمُكَ.
- مِسْطَرَّةٌ مِثْرِيَّةٌ.
- 4 بِطَاقَاتٍ فَهْرَسَةٍ.
- قَلَمٌ ثَلَوِينٌ.

كَيْفَ يُهَكِّمُكَ تَصْنِيفُ الْأَشْيَاءِ؟

الهِدَفُ

يُسَاعِدُكَ الْمِفْتَاحُ ثُنَائِي التَّفْرُعِ عَلَى تَصْنِيفِ الْأَشْيَاءِ أَوْ تَعْرِيفِهَا، إِنَّهُ سَلْسِلٌ مِنَ الْمَوَاصِفَاتِ مُرْتَبَةٌ عَلَى ثُنَائِيَّاتٍ، وَفِي هَذَا النَّشَاطِ سَتُقَارِنُ بَيْنَ الْأَشْيَاءِ وَتَصْنِيفِهَا بِاسْتِخْدَامِ الْمِفْتَاحِ ثُنَائِي التَّفْرُعِ.

الإجراء

- 1 **مُلاحَظَةٌ** أَنْظِرْ إِلَى الْأَشْيَاءِ الَّتِي أَعْطَاها لَكَ مُعَلِّمُكَ، وَأَفْحَصْ خِصَائِصَهَا. مَا أَوْجُهُ الْإِخْتِلَافِ بَيْنَ الْأَشْيَاءِ؟ وَمَا مَدَى التَّشَابُهِ بَيْنَهُمَا؟

مِفْتَاحُ ثُنَائِي التَّفْرِيعِ

- 1a. الشَّيْءُ دَائِرِيٌّ..... انتَقِلْ إِلَى 2
- 1b. الشَّيْءُ لَيْسَ دَائِرِيًّا..... انتَقِلْ إِلَى 3

- 2a. الشَّيْءُ أَطْوَلُ مِنْ 2 cm..... الْمَجْمُوعَةُ "أ"
- 2b. الشَّيْءُ أَقْصَرُ مِنْ 2 cm..... الْمَجْمُوعَةُ "ب"

- 3a. الشَّيْءُ لَهُ حَجْمٌ أَكْبَرُ مِنْ 500 cm³..... الْمَجْمُوعَةُ "ج"

- 3b. الشَّيْءُ لَهُ حَجْمٌ أَقَلُّ مِنْ 500 cm³..... الْمَجْمُوعَةُ "د"

تختلف بالحجم والشكل والألوان

- 2 **تَصْنِيفٌ** اسْتَخْدِمِ الْمِفْتَاحَ ثُنَائِي التَّفْرُعِ أَدْنَاهُ لِتَصْنِيفِ الْأَشْيَاءِ إِلَى مَجْمُوعَاتٍ.

5/1

5/2

4 **فَسِّرِ الْبَيَانَاتِ كَيْفَ تَمَكَّنْتَ مِنْ وَصْفِ مَحْتَوِيَاتِ الْمَجْمُوعَاتِ كُلِّهَا؟**

حسب حجمها وشكلها ...

5 **إِسْتَدِلْ لِمَاذَا قَدْ يُسَاعِدُ الْمِفْتَاحُ ثُنَائِي التَّفَرُّعِ الْعُلَمَاءَ؟**

لتسهيل عملية التصنيف

استكشف المزيد

ما الخصائص الأخرى للأشياء التي يُمكنك تصنيفها؟ اصنع مفتاحك ثنائي التفرع باستخدام خاصيتين أو ثلاث خصائص لتصنيف العديد من العناصر إلى مجموعات. ثم اطلب إلى أحد زملاء الفصل استخدام مفتاحك لتصنيف الأشياء.

1-4 إجراء قياسات

المفردات

- الملاحظة
- الوصف
- القياس
- ميزان متري
- الميزان الزنبركي
- المخبر المدرج

ادوات الملاحظة؟

التعرف على الوحدات
المترية القياسية

أدوات قياس الحجم والوزن
والكتلة ودرجة الحرارة؟

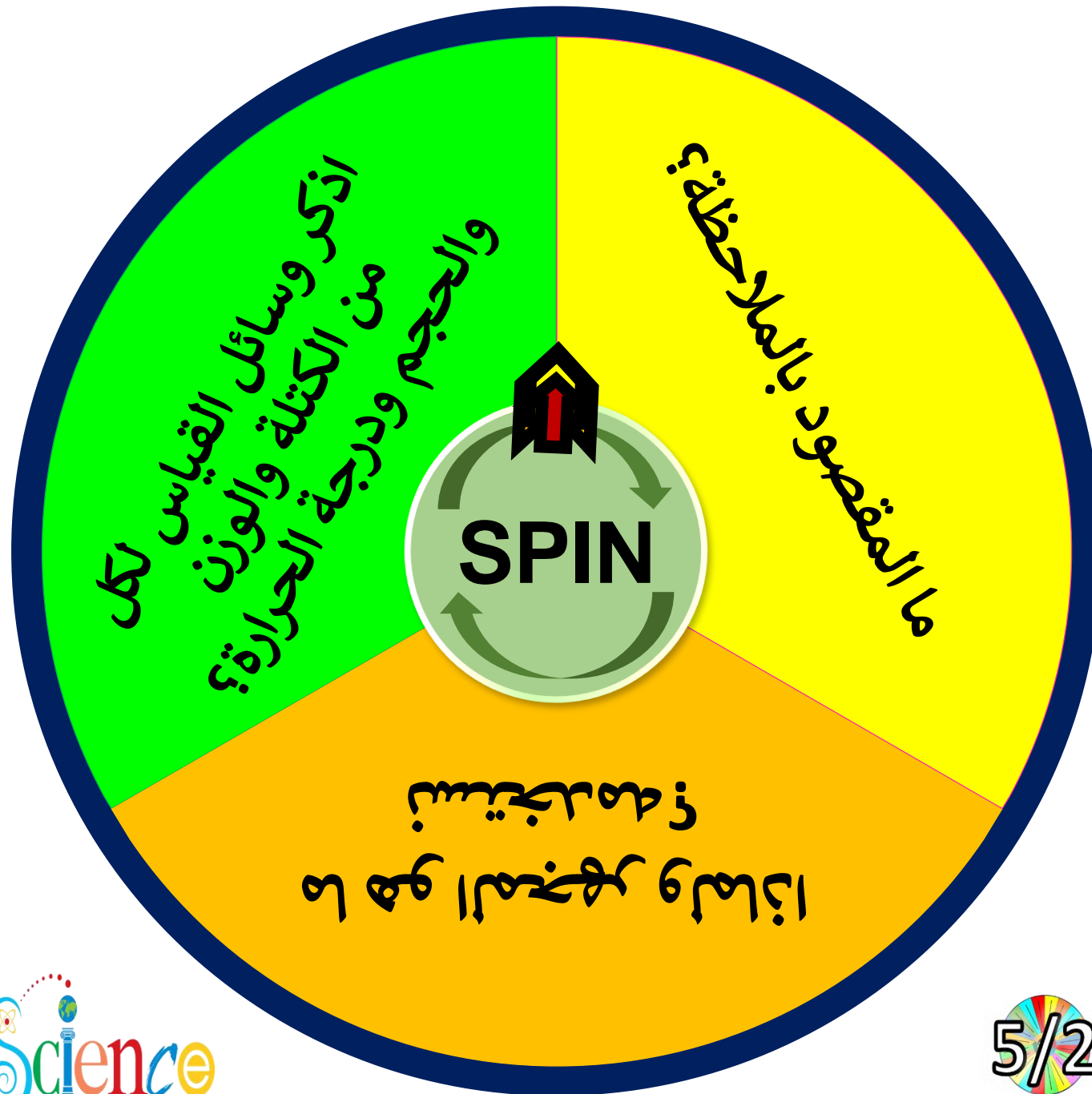
نواتج
التعلم

إجراء القياسات

أسئلة
قبلية



5/25/1



أسئلة قبلية

إجراء قياسات

الوحدة 1 - الدرس 4

A- ما هو المقصود بالملاحظة؟

B- ما هو المجهر ولماذا نستخدمه؟

C- اذكر وسائل القياس لكل من الكتلة والوزن والحجم ودرجة الحرارة؟

5/1

5/2





استخدام
منصة
ألف
Alef



5TH GRADE استخدام منصة ألف Alef

الوحدة 1 - الدرس 4

اجراء القياسات - 1
أدوات القياس - 16

Alef EDUCATION للف الف للتعليم



5TH GRADE استخدام منصة ألف Alef

الوحدة 1 - الدرس 4

اجراء القياسات - 2
حجم الأجسام الغير منتظمة ودرجة الحرارة - 18

Alef EDUCATION للف الف للتعليم



5TH GRADE استخدام منصة ألف Alef

الوحدة 1 - إعداد أفضل العلماء

اختبار تقييمي 1 - 20

Alef EDUCATION للف الف للتعليم



5TH GRADE استخدام منصة ألف Alef

الوحدة 1 - الدرس 4

اجراء القياسات - 1
الملاحظات والقياسات - 15

Alef EDUCATION للف الف للتعليم



5TH GRADE استخدام منصة ألف Alef

الوحدة 1 - الدرس 4

اجراء القياسات - 2
الطول الحجم الكتلة الوزن - 17

Alef EDUCATION للف الف للتعليم



5TH GRADE استخدام منصة ألف Alef

الوحدة 1 - إعداد أفضل العلماء

اختبر معلوماتي 1 - 19

Alef EDUCATION للف الف للتعليم







الوحدة 1 - الدرس 4

اجراء القياسات - 1

الملاحظات والقياسات - 15





الملاحظات والقياسات - 15



المفردات



نواتج التعلم

الجزء
1

- الملاحظة
- الوصف
- القياس
- ميزان متري
- الميزان الزنبركي
- المخبار المدرج

هَدَفِي هُو تَحْدِيدُ الْأَدْوَاتِ
الْمُسْتخدَمَةِ لِإِجْرَاءِ الْمُلَاحَظَاتِ،
وَوَصْفُ أَنْظِمَةِ الْقِيَاسِ الَّتِي
يَسْتخدِمُهَا الْعُلَمَاءُ.



قراءة موجهة - صفحة (60-61)



ما هو المقصود بالملاحظة, الوصف؟



عدد بعض أدوات الملاحظة؟




ما هو الفرق بين المجهر الضوئي والإلكتروني؟



5/2



5/1



كَيْفَ تَتَمُّ مُمَاحظَةُ الْخَصَائِصِ الْفِيْزِيَاءِيَّةِ وَوَصْفُهَا؟

page. 60

كَمَا تَعَلَّمْتِ، يُمَكِّنُ مُمَاحظَةَ بَعْضِ الْخَصَائِصِ الْفِيْزِيَاءِيَّةِ بِخَوَاسِّكَ فَقَطْ. الْمُمَاحظَةُ هِيَ اسْتِخْدَامُ خَوَاسِّكَ لِمُمَاحظَةِ أَشْيَاءٍ عَن كَائِنٍ أَوْ حَدَثٍ مُّعَيَّنٍ، كَمَا يُمَكِّنُكَ اسْتِخْدَامُ أَدْوَاتٍ مِثْلَ الْعَدَسَاتِ الْمُكَبَّرَةِ وَالْمِجْهَرِ، فَهَذِهِ الْأَدْوَاتُ تُتِيحُ لِلْعُلَمَاءِ التَّعَرُّفَ إِلَى الْمَزِيدِ حَوْلَ عَالَمِ الطَّبِيعَةِ بِدَرَجَةٍ أَكْبَرَ مِمَّا يُمَكِّنُ مُمَاحظَتَهُ بِاسْتِخْدَامِ خَوَاسِّهِمْ فَقَطْ. وَيُمَكِّنُ أَنْ تُتِيحَ الْمُوَاصَفَاتُ الْمَفْصَّلَةَ لِلْعُلَمَاءِ إِمكَانِيَّةَ نَقْلِ اكْتِشَافَاتِهِمْ إِلَى عُلَمَاءٍ آخَرِينَ.

الْوَصْفُ هُوَ سَرْدُ تَفَاصِيلِ حَوْلِ الْخَصَائِصِ الْفِيْزِيَاءِيَّةِ لِشَيْءٍ أَوْ كَائِنٍ أَوْ حَدَثٍ مُّعَيَّنٍ، وَالغَرَضُ مِنَ الْوَصْفِ هُوَ إِعْطَاءُ الْآخَرِينَ صُورَةً عَنِ الشَّيْءِ.

وَلِرُؤْيَةِ أَشْيَاءٍ صَغِيرَةٍ بِوَضُوحٍ أَكْبَرَ يَسْتَعْدِمُ الْعُلَمَاءُ أَجْهَزَةَ الْمِجْهَرِ. الْعَدَسَةُ الْمُكَبَّرَةُ هِيَ عَدَسَاتٌ تُمَسَّكُ بِالْيَدِ، وَتَجْعَلُ الْأَشْيَاءَ تَبْدُو بِشَكْلِ أَكْبَرَ، كَمَا أَنَّ الْعَدَسَةَ الْمُكَبَّرَةَ هِيَ مِجْهَرٌ بَسِيطٌ أَوْ مِجْهَرٌ بَعْدَسَةٌ وَاحِدَةٌ فَقَطْ، وَيَسْتَعْدِمُ الْعُلَمَاءُ الْعَدَسَاتِ الْمُكَبَّرَةَ لِإِعْدَادِ مُوَاصَفَاتٍ أَكْثَرَ تَفْصِيلاً لِلْأَشْيَاءِ مِثْلَ الصُّخُورِ، وَالْحَشْرَاتِ، وَالتَّيْبَاتِ، وَالتُّرْبَةِ.



يُمَكِّنُكَ اسْتِخْدَامُ عَدَسَاتٍ مُّكَبَّرَةٍ لِمُمَاحظَةِ مُوَاصَفَاتٍ مُّفْصَّلَةٍ لِهَذِهِ الْفَرَّاشَةِ.

هَذِهِ الخَلايا صَغِيرَةٌ جِدًّا،
وَتَصَعُبُ رُؤْيُهَا دُونَ
اسْتِخْدَامِ مِجْهَرٍ.



أنواع المجاهر

مجاهر تستخدم العدسات

1- المجاهر الضوئية العادية

2- المجاهر المركبة

مجاهر تستخدم الإلكترونيات

1- المجاهر الإلكترونية

2- المجهر النفقي الماسح

لِتَكْبِيرِ الأشياءِ الصَّغِيرَةِ جِدًّا مِثْلَ الخَلايا
يَسْتَعْمِدُ العُلَمَاءُ مِجْهَرًا مُرَكَّبَةً، وَيُوجَدُ فِي هَذِهِ
المِجْهَرِ العَدِيدُ مِنَ العَدَسَاتِ.

رَبَّمَا رَأَيْتَ مِجْهَرًا مُرَكَّبًا فِي فَصْلِكَ الدَّرَاسِيِّ،
وَبَعْضُ المِجْهَرِ التي يَسْتَعْمِدُهَا العُلَمَاءُ قَوِيَّةٌ
جِدًّا حَيْثُ يُمَكِّنُهَا تَكْبِيرُ الخَلِيَّةِ بِمِقْدَارِ مِائَاتِ
أَلْفٍ مِنَ المَرَّاتِ!

الدَّرَاتُ صَغِيرَةٌ جِدًّا بِدَرَجَةِ غَيْرِ مَعْقُولَةٍ،
وَلَا تُمَكِّنُ رُؤْيُهَا بِالمِجْهَرِ العَادِيَّةِ؛ لِذَلِكَ يَتِمُّ
اسْتِخْدَامُ مِجْهَرِ إلكترونيَّةٍ خَاصَّةٍ لِفَحْصِ

الدَّرَاتِ، وَتَسْتَعْمِدُ هَذِهِ المِجْهَرُ جُسيماتٍ دَقِيقَةً
جِدًّا تُسَمَّى إلكترونياتٍ لِفَحْصِ الدَّرَاتِ، وَيُمَكِّنُ
اسْتِخْدَامَ مِجْهَرٍ خَاصٍّ آخَرَ يُسَمَّى مِجْهَرِ المَسْحِ
النَّفَقِيِّ المَاسِحِ لِفَحْصِ الدَّرَاتِ، وَتُوجَدُ فِيهِ
نِهَايَةُ إِبْرِيَّةٍ تَتَحَرَّكُ عَلَى سَطْحِ الشَّيْءِ، وَتَتَحَرَّكُ
الإِبْرَةُ إِلَى أَعْلَى وَإِلَى أَسْفَلِ كُلِّ ذَرَّةٍ فِي السَّطْحِ
لِلْحُصُولِ عَلَى صُورَةٍ تُوضِّحُ الدَّرَاتِ.

مُراجَعَةٌ سَريِعَةٌ



1. كيفَ تَكونُ المُقارَنَةُ بَينَ عَدَسَاتِ مُكَبِّرَةٍ
وَمِجْهَرٍ مُرَكَّبٍ؟

العَدَسَاتُ المُكَبِّرَةُ

كِلَاهُمَا

المِجْهَرُ المُرَكَّبُ



مجهر بسيط
للحصول على مواصفات
مفصلة

يُستخدمان
للتكبير

عدسات متعددة
تُستخدم للتكبير الدقيق

يتم تحديد الخصائص الفيزيائية من خلال إجراء الملاحظات
يُعبّر عن الملاحظات كأوصاف.



المُوصفاتُ



المُلاحظاتُ



تُستخدمُ العَدَسَاتُ المُكَبِّرَةُ - النِّظَارَاتُ - المَجَاهِرُ لتَسَاعِدَنَا عَلَى رُؤْيَةِ الأَشْيَاءِ بِوُضُوحٍ أَكْبَرَ.

المَجَاهِرُ



العَدَسَةُ



النِّظَارَاتُ



5/1

5/2



العدسة المُكبِّرةُ

- عدسةٌ تُمسكُ باليدِ.
- مجهرٌ بسيطٌ بعدسةٍ واحدةٍ فقط.
- يستخدمُ العلماءُ العدساتِ المُكبِّرةَ لملاحظةِ أشياء، مثل: الصُّخورِ، والحشراتِ، والنباتاتِ.



المجهر المركب

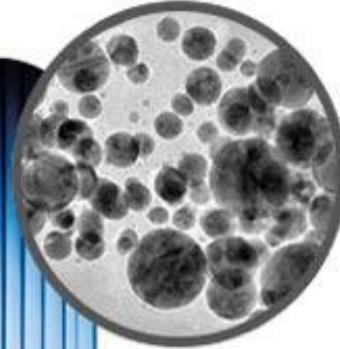


خلايا البصل



- يستخدم الضوء؛ للحصول على صورة.
- يستخدم عدستين أو أكثر.
- يستخدم لرؤية الخلايا والكائنات الحية.

المجهر الإلكتروني



جزيئات الذهب



- يستخدم الإلكترونات؛ للحصول على صورة.
- يستخدم عدسات خاصة.
- يستخدم لفحص الذرات والأشياء غير الحية.

المجاهر

- يُتيح المجهر للعلماء رؤية الأشياء الصغيرة جدًا، كـ **الخلايا والذرات** التي لا يمكن رؤيتها بالعين المجردة.
- تستخدم أنواع المجاهر المختلفة لملاحظة أشياء مختلفة.



5/1

5/2

أسئلة سريعة

-A ما هو المقصود بالملاحظة وما هي الوصف؟

-B ماذا نستخدم لتكبير الأجسام الدقيقة؟

-C ما هي أنواع المجاهر؟

-D ما هو الفرق بين المجهر الضوئي والإلكتروني؟

5/2 5/1



قراءة موجهة - صفحة (62-63)



ما هو المقصود بالقياس؟





انظر الرسم .. واذكر ما هو مقياس الزر والدرهم والجيتار؟




كم سنتمتر يساوي 2 متر؟



5/2



5/1






الوحدة 1 - الدرس 4

اجراء القياسات - 1

أدوات القياس - 16





أدوات القياس - 16



المفردات

Alef
EDUCATION

ألف
للتعليم

نواتج التعلم

الجزء
2

- الملاحظة
- الوصف
- القياس
- ميزان متري
- الميزان الزنبركي
- المخبار المدرج

هَدَفِي هُو التَّعَرُّفُ إِلَى الأَدْوَاتِ
المُستخدَمَةِ لِإجراءِ القياساتِ
وَرَبَطِهَا بِكَمِّيَّاتِهَا وَوَحْدَاتِهَا.

المسطرة وغيرها من أدوات القياس يمكن استخدامها في قياس الأشياء.

الوحدات المِثْرِيَّة القياسِيَّة مثل السَّنْتِيْمِتر والمِيلِيْمِتر و الجرام في هذا النَّظَام، وَهَذِهِ هِيَ الْوَحْدَاتُ الَّتِي تُسْتخدَمُهَا فِي صَفِّ الْعُلُومِ. كَيْفَ يُمَكِّنُنَا أَخْذُ أَنْوَاعٍ مُخْتَلِفَةٍ مِنْ الْقِيَاسَاتِ لِشَيْءٍ مُعَيَّنٍ؟ يُمَكِّنُ أَنْ تُسَاعِدَنَا أَدَوَاتٌ وَمُعَادَلَاتٌ رِيَاضِيَّةٌ مُعَيَّنَةٌ.

الطُّولُ وَالْعَرْضُ وَالْإِرْتِفَاعُ

لِقِيَاسِ الطُّولِ أَوْ الْعَرْضِ أَوْ الْإِرْتِفَاعِ لِشَيْءٍ مَا يُمَكِّنُكَ اسْتِخْدَامُ مِسْطَرَةٍ مِثْرِيَّةٍ أَوْ شَرِيْطِ قِيَاسٍ، وَيُمَكِّنُكَ وَفْقًا لِحَجْمِ الشَّيْءِ اسْتِخْدَامَ الْمِيلِيْمِترَاتِ أَوْ السَّنْتِيْمِترَاتِ أَوْ الْأَمْتَارِ أَوْ حَتَّى الْكِيلُوْمِترَاتِ كَوَحْدَةٍ. يُمَكِّنُ قِيَاسَ غُلْبَةٍ الْكَبْرِيَّتِ بِالْمِيلِيْمِترَاتِ (mm) أَوْ بِالسَّنْتِيْمِترَاتِ (cm)، وَيُمَكِّنُ قِيَاسَ مِنْصَدَةٍ بِالْأَمْتَارِ (m)، وَيُمَكِّنُ قِيَاسَ الطَّرِيقِ بِالْكِيلُوْمِترَاتِ (km).

كَيْفَ يَتَمُّ قِيَاسُ الْخَصَائِصِ الْفِيْزِيَاءِيَّةِ؟

كَمَا تَعَلَّمْتَ، يُمَكِّنُ اسْتِخْدَامُ الْعَدِيدِ مِنْ الْخَصَائِصِ الْفِيْزِيَاءِيَّةِ الْمُخْتَلِفَةِ لَوْصْفِ شَيْءٍ مَا، وَيُمَكِّنُ أَنْ يَتَّضَمَّنَ وَصْفُكَ لِكُرَّةٍ مُعَيَّنَةٍ كَلِمَاتٍ مِثْلَ: دَائِرِيَّةٌ، وَحَمْرَاءٌ، وَنَاعِمَةٌ، وَكَبِيرَةٌ، وَخَفِيْفَةٌ، وَتَعَدُّ الْكَلِمَاتِ (دَائِرِيَّةٌ، وَحَمْرَاءٌ، وَنَاعِمَةٌ) مُوَاصِفَاتٍ جَيِّدَةً لِلْكُرَّةِ، لَكِنَّ الْكَلِمَاتِ (كَبِيرَةٌ، وَخَفِيْفَةٌ) لَيْسَتْ كَلِمَاتٍ دَقِيْقَةً.

وَتَوْجَدُ طَرِيْقَةً أَكْثَرَ دِقَّةً لَوْصْفِ حَجْمِ الْكُرَّةِ وَوَزْنِهَا، وَهِيَ إِعْطَاءُ قِيَاسَاتِ الْكُرَّةِ. الْقِيَاسُ هُوَ تَعْبِيرٌ دَقِيْقٌ عَنِ خَاصِيَّةِ فِيزِيَاءِيَّةٍ مِثْلِ الطُّولِ أَوْ الْكَيْلَةِ، وَيَتَمُّ الْقِيَاسُ بِوَحْدَاتٍ مُخَدَّدَةٍ مِثْلِ السَّنْتِيْمِترِ أَوْ الْجَرَامِ.

يَسْتخدِمُ مُعْظَمُ الْأَشْخَاصِ حَوْلَ الْعَالَمِ النَّظَامَ الدَّوْلِيَّ لِلْوَحْدَاتِ (SI) لِقِيَاسِ الْخَصَائِصِ الْمَادِّيَّةِ لِلْأَجْسَامِ، وَيَتَمُّ اسْتِخْدَامُ

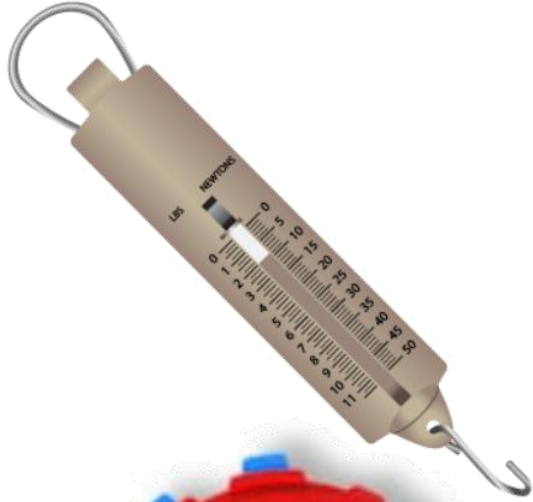


يُمَكِّنُكَ وَصْفُ هَذِهِ الْكُرَّةِ بِأَنَّهَا كَبِيرَةٌ الْحَجْمِ، وَلَكِنْ: مَا مَدَى كَبَرِ حَجْمِهَا؟ سَتَوْفَّرُ قِيَاسَاتُ إِرْتِفَاعِهَا وَكَيْلَتِهَا وَصَفًّا أَكْثَرَ دِقَّةً.

القياسُ هُوَ طريقةُ تحديدِ حجمٍ أو طولٍ أو كميّةٍ شيءٍ مُعيّنٍ.
وتُستخدمُ أدواتٌ مُختلفةٌ لإعطاءِ قياساتٍ مُختلفةٍ.



مسطرةٌ متريّةٌ



5/25/1



مخابيرٌ مُدرّجةٌ

بادئات شائعة للوحدة المترية

المعنى	البادئة
1,000	الكيلو (k) -
10	ديكا (da) -
0.1	ديسي (d) -
0.01	سنطي (cm)
0.001	مللي (m) -

ماذا تفعل إن كنت بحاجة إلى المقارنة بين وحدتين مختلفتين؟ أنت تعرف طول صندوق معين بالسنتيمترات، وطول حجرة صغيرة بالأمتار.

ولتحديد عدد الصناديق التي تتسع لها الحجرة الصغيرة يجب عليك تحويل الوحدات من نوع معين إلى نوع آخر.

يمكنك التحويل إلى وحدات مترية أصغر أو أكبر عن طريق الضرب أو القسمة على مضاعفات العشرة. ولتحويل السنتيمترات إلى أمتار إقسم على 100 فالصندوق الذي يبلغ طوله 47.3 cm يبلغ طوله 0.473 m. ولتحويل الأمتار إلى سنتيمترات اضرب في 100.

5/1

5/2

Ammar
Abdoh

مراجعة سريعة ✓

2. كيف تتم مقارنة السنتيمتر بالكيلومتر؟

السنتيمتر يمثل 1/100000 من الكيلومتر



◀ عَرْضُ الرَّزِّ هُوَ
سنتيمتر
واحد.
(10 ملليمتر)



▶ يَبْلُغُ سُمْكُ الدَّرْهَمِ
حَوالِي مِلليمترٍ واحدٍ.



يَصِلُ طَوْلُ الجيتارِ
إلى مِترٍ واحدٍ تَقريبًا. ◀



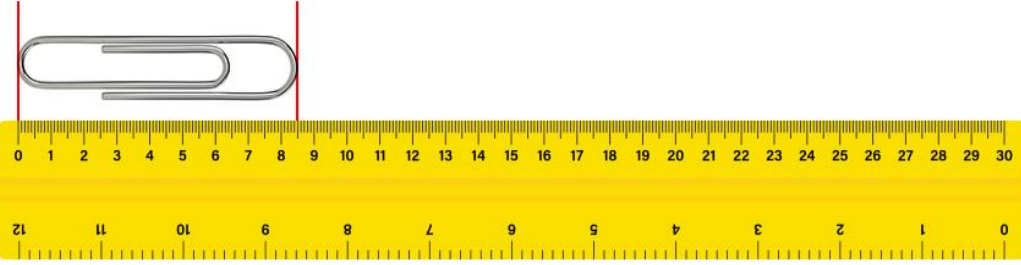


بَادِنَاتٌ شَائِعَةٌ لِلوَحْدَةِ الْمِتْرِيَّةِ

المَعْنَى	البَادِنَةُ
1,000	الكيلو (k) -
10	ديكا (da) -
0.1	ديسي (d) -
0.01	سنتي (cm)
0.001	ملي (m) -


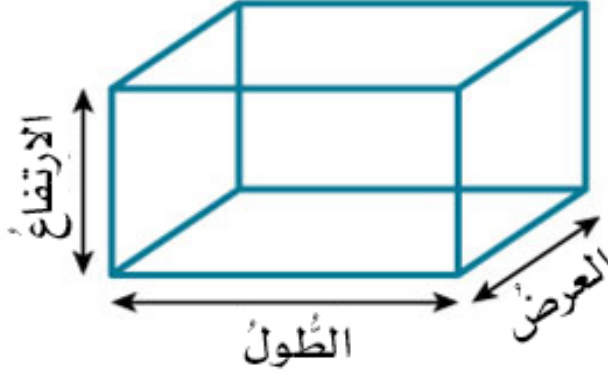

5/25/1

الطول والعرض والارتفاع







وَحْدَةُ الْقِيَاسِ	الجِسْمُ
المتْرُ	منزلُ
السَّنْتِيْمِتر	كرسيُّ
المِلِّيْمِتر	عملةٌ معدنيَّةٌ
الكِيلومِتر	طريقُ

الطول - العرض - الارتفاع

الأداة	الوحدة	الكمية
<p>مسطرة متريّة</p> 		<p>يُقاسُ الطُّولُ والعرضُ والارتفاعُ بالمسافةِ من طرفٍ لآخر.</p>
 <p>شريط قياس</p>	<p>الوحدة الأساسية لقياس الطول والعرض، والارتفاع هي المتر.</p>	

وحدات النظام الدولي للوحدات والكميات التي يقيسونها

النظام الدولي للوحدات هو نظام لوحدات القياس يستخدمه العلماء، متفق عليه دوليًا.

درجة الحرارة	الوقت	الكتلة	الطول	الكمية المقاسة
				
كلفن (k)	ثانية (s)	كيلوجرام (kg)	متر (m)	وحدة القياس

يُطلق على النظام نظامًا موحدًا إذا كان:

- ✓ معروفًا عند الجميع
- ✓ موافقًا عليه من قبل الجميع
- ✓ مُستخدمًا من الجميع

5/25/1

وحدات النظام الدولي للوحدات والكميات التي يقيسونها

5/25/1

النظام الدولي للوحدات هو نظام لوحدات القياس يستخدمه العلماء، متفق عليه دوليًا.

القياسات



النظام الدولي للوحدات

- كلفن (درجة الحرارة) K
- متر (المسافة) m
- ثانية (الوقت) s
- كيلوجرام (الكتلة) kg
- نيوتن (الوزن) N

عم Ammar
عب Abdoh

قياس الخصائص الفيزيائية للوحدات

النظام الدولي للوحدات	الأداة	الكمية
متر (m)	المسطرة المترية	الطول
كيلوجرام (kg)	الميزان المتري	الكتلة
مليلتر (mL)	المخبار المدرج	الحجم
كلفن (K)	مقياس درجة الحرارة	درجة الحرارة
نيوتن (N)	الميزان الزنبركي	الوزن

5/25/1



يُضيفُ العلماءُ عادةً البادئاتِ المِتريةَ التَّالِيَةَ عِنْدَ اسْتِخْدَامِ وَحَدَاتِ النُّظَامِ الدَّوْلِيِّ:

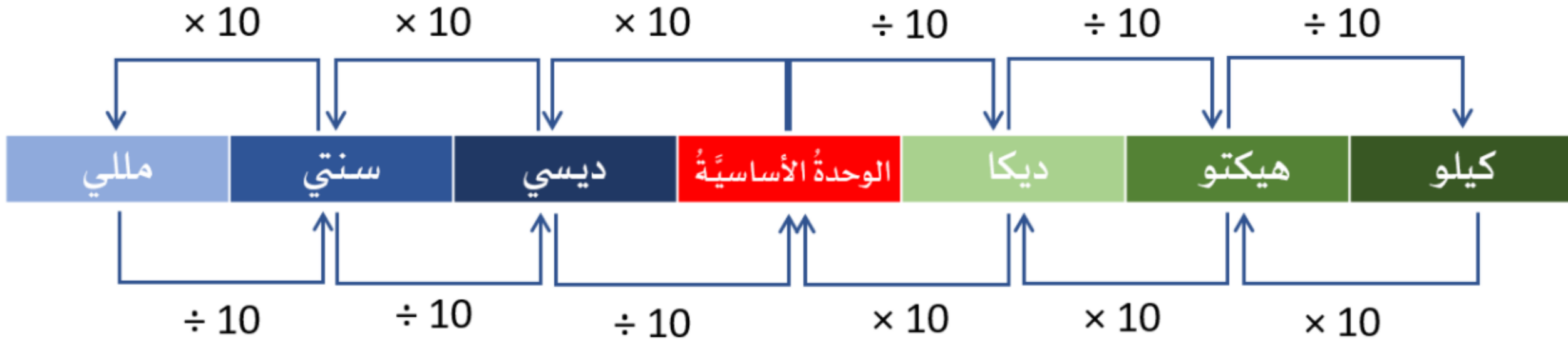
- تُضَافُ بادئاتُ **كيلو - هيكتو - ديكا** للتَّحْوِيلِ إِلَى وَحَدَاتٍ أَكْبَرَ.
- تُضَافُ بادئاتُ **ديسي - سنتي - ميلي** للتَّحْوِيلِ إِلَى وَحَدَاتٍ أَصْغَرَ.

بادئات شائعة للوحدة المترية





البادئات

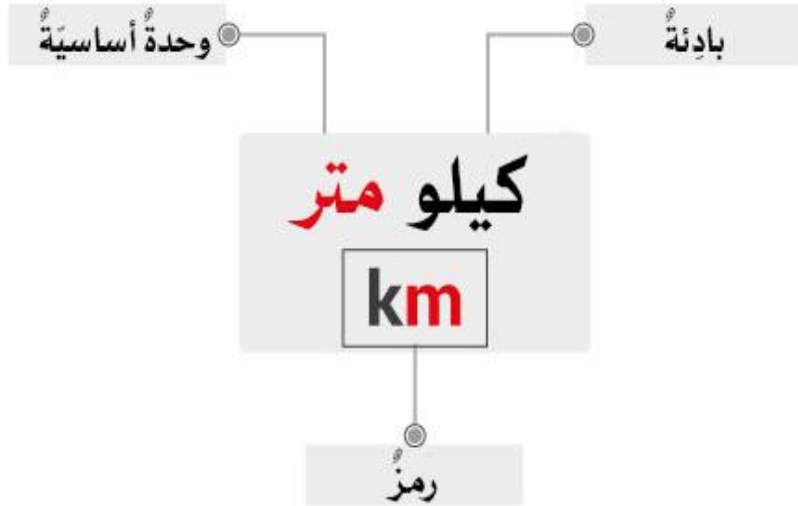




النظام الدولي للوحدات هو نظام لوحدات القياس يستخدمه العلماء، متفق عليه دوليًا.

يُطلق على النظام نظامًا موحدًا إذا كان:

- ✓ معروفًا عند الجميع
- ✓ موافقًا عليه من قبل الجميع
- ✓ مُستخدمًا من الجميع



حمد

يوجد كمية كبيرة من الماء في الكأس المدرج

محمد

يوجد في الكأس المدرج 220cm^3 من الماء

الرقم

220

وحدة النظام الدولي

cm^3

5/2 5/1

أسئلة سريعة

A- ما هو المقصود بالقياس؟

B- ما هو النظام الدولي للوحدات؟

C- ما هي الوحدة المستخدمة لقياس المسافة بين مدرستك ومنزلك؟

D- كيف نحول بين الكيلو والمتر, وبين المتر والمللي؟





الوحدة 1 - الدرس 4

اجراء القياسات - 2

الطول الحجم الكتلة الوزن - 17



الطول الحجم الكتلة الوزن - 17

المفردات

Alef
EDUCATION

ألف
للتعليم

نواتج التعلم

الجزء
3

- الملاحظة
- الوصف
- القياس
- ميزان متري
- الميزان الزنبركي
- المخبار المدرج

هَدَفِي هُوَ قِيَاْسُ حَجْمٍ وَكُتْلَةٍ
وَوَزْنِ جَسْمٍ مَا.



قراءة موجهة - صفحة (64-65)



انظر إلى الصور في ص 64-65 واذكر اسم هذه الأدوات؟



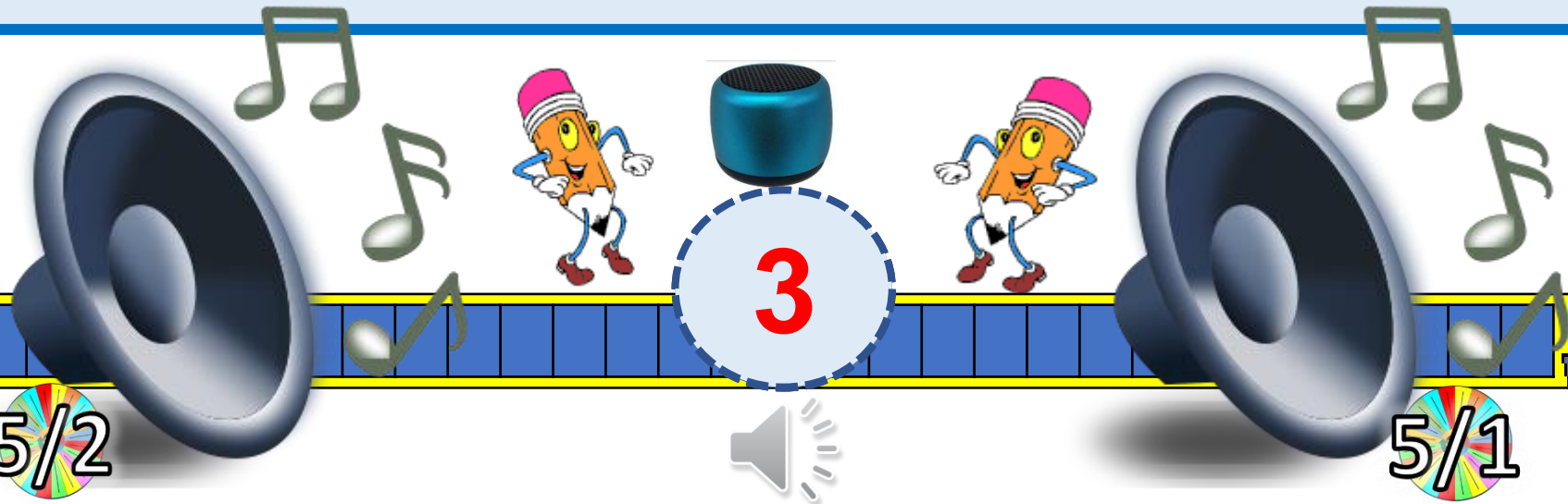
كيف نحول من نيوتن إلى كيلوجرام؟




على القمر أيهما سيكون له نفس القيمة الوزن أو الكتلة؟



5/2



5/1



5/25/1

يُستخدَم الميزان المتريُّ أو الميزانُ بِكفَّتين
لِقِيَاسِ كُتْلَةِ شَيْءٍ مُعَيَّن.

كَيْفَ يَتَمُّ قِيَاسُ الكُتْلَةِ وَالوِزْنِ؟

الكُتْلَةُ هي كَمِّيَّةُ المادَّةِ المَوْجُودَةِ في شَيْءٍ مُعَيَّن،
وَيَتَمُّ قِيَاسُ كُتْلَةِ شَيْءٍ ما بِاسْتِخْدَامِ مِيزَانٍ مِترِيٍّ،
وَيُسَمَّى أَيْضًا (مِيزَانًا بِكفَّتين).


وَلَا سِخْدَامِ المِيزَانِ المِترِيِّ ضَعُ شَيْئًا بِكُتْلَةِ غَيْرِ
مَعْرُوفَةٍ على إِحدى الكِفَّتينِ، ثُمَّ ضَعُ أَشْيَاءَ بِكُتْلِ
مَعْرُوفَةٍ على الكِفَّةِ الأُخْرَى.

يَتَمُّ اسْتِخْدَامُ قِطْعٍ مِعياريَّةٍ تُسَمَّى كُتْلًا جِرامِيَّةً -
عَادَةً- لِإِيجَادِ كُتْلَةِ شَيْءٍ ما، وَعِنْدَمَا تَتَوَازَنُ الكِفَّتانِ
تَكُونُ كَمِّيَّةُ المادَّةِ في الشَّيْءِ وَفي الكُتْلِ الجِرامِيَّةِ
مُتساوِيَّةً. اجْمَعُ كُتْلَ القِطْعِ الجِرامِيَّةِ، فَإِنَّ إِجماليَّ
كُتْلَتِها يُساوي كُتْلَةَ الشَّيْءِ، وَيَقِيسُ العُلَماءُ الكُتْلَةَ -
عَادَةً- بِالجِراماتِ (g) أَوْ بِالكيلوجِراماتِ (kg).

وَبِالمِثْلِ مَعَ وَحَدَاتِ الطَّوْلِ يَسهُلُ تَحْوِيلُ وَحَدَاتِ
الكُتْلَةِ، وَيُساوي الكِيلوجِرامِ الواحدِ 1000 g ،
وَلِتَحْوِيلِ الجِراماتِ إلى كيلوجِراماتٍ إِقسِمُ عَدَدُ
الجِراماتِ على 1000، وَلِتَحْوِيلِ الكِيلوجِراماتِ إلى
جِراماتٍ إِضْرِبْ عَدَدَ الكِيلوجِراماتِ في 1000.


الكتلة

الكتلة هي كميّة المادّة الموجودة في شيءٍ معيّن.
• تقيسُ الكتلة عددَ الذرّاتِ في جسمٍ ما.



كتلة أقلّ

5/25/1



كتلة أكبر




كَمِيَّةُ المَادَّةِ

يُمْكِنُ اسْتِخْدَامُ كُلِّ مِنَ الكُتْلَةِ وَالوِزْنِ عَلَى الأَرْضِ لِلْمُقَارَنَةِ بَيْنَ كَمِيَّاتِ المَادَّةِ، وَإِذَا لَمْ يَتَغَيَّرْ مَوْقِعُ الشَّيْءِ فَلَنْ تَتَغَيَّرَ قُوَّةُ جَذْبِ الجاذِبِيَّةِ لِلشَّيْءِ، وَنَتِيجَةُ ذَلِكَ أَنَّهُ سَيَتَنَاسَبُ وِزْنُ الشَّيْءِ طَرْدِيًّا مَعَ كُتْلَتِهِ.

إِذَا كَانَتْ كُتْلَةُ الشَّيْءِ "أ" مِثْلَ ضِعْفِ كُتْلَةِ الشَّيْءِ "ب"، فَسَيَكُونُ وِزْنُ الشَّيْءِ "أ" ضِعْفَ وِزْنِ "ب" أَيْضًا طَالَمَا كَانَ الشَّيْءَانِ عَلَى الأَرْضِ، وَبِاسْتِخْدَامِ أَيِّ قِيَاسٍ يُمَكِّنُكَ وَصَفُ الشَّيْءِ "أ" عَلَى أَنَّهُ يَحْمِلُ ضِعْفَ كُتْلَةِ مَادَّةِ الشَّيْءِ "ب".

✓ **مُرَاجَعَةٌ سَرِيعَةٌ**

3. تَزْدَادُ قُوَّةُ الجاذِبِيَّةِ عَلَى كَوْكَبِ المِشْتَرِي بِمَعْدَلِ 2.53 مَرَّةً عَنِ قُوَّةِ الجاذِبِيَّةِ عَلَى الأَرْضِ، فَهَلْ سَيَكُونُ وِزْنُكَ أَكْبَرَ أَمْ أَقَلَّ عَلَى كَوْكَبِ المِشْتَرِي؟ كَمْ سَتَكُونُ كُتْلَتُكَ؟ اِشْرَحْ.



عم Ammar
عبد Abdoh

5/1

5/2

▲ يَتِمُّ اسْتِخْدَامُ المِيزَانِ الزَّنْبَرَكِيِّ - غَالِبًا - فِي مُخْتَبَرِ العُلُومِ لِتَحْدِيدِ وِزْنِ شَيْءٍ مَا.

سيكون وزنك أكبر ونفس كتلتك على كوكب المشتري.



كَمَا تَعَلَّمْتَ، الْوَزْنُ هُوَ مَدَى قُوَّةِ الْجاذِبِيَّةِ الَّتِي تَجْدِبُ شَيْئًا مَا، وَلِقْيَاسِ وَزْنِ شَيْءٍ مَا نَسْتَخْدِمُ مِيزَانًا يُسَمَّى الْمِيزَانَ الزُّنْبُرَكِيِّ.

عِنْدَمَا تَقِفُ عَلَى مِيزَانِ زُنْبُرَكِيِّ تَجْدِبُكَ الْجاذِبِيَّةُ إِلَى الْأَسْفَلِ فَيُؤَدِّي ذَلِكَ إِلَى ضَغْطٍ أَوْ كَبْسِ الزُّنْبُرَكِ إِلَى دَاخِلِ الْمِيزَانِ، وَكُلَّمَا زَادَ وَزْنُكَ زَادَ الضَّغْطُ عَلَى الزُّنْبُرَكِ، وَتَقْيَسُ أَنْوَاعَ أُخْرَى مِنَ الْمَوَازِينِ الزُّنْبُرَكِيَّةِ وَزْنَ الشَّيْءِ عِنْدَمَا تُعَلِّقُهُ فِي الْمِيزَانِ الزُّنْبُرَكِيِّ، فَتَسْحَبُ الْجاذِبِيَّةُ الشَّيْءَ إِلَى الْأَسْفَلِ مِمَّا يُمَدِّدُ الزُّنْبُرَكِ.

الكثير من الموازين المنزلية هي موازين زُنْبُرَكِيَّة.

5/1

5/2

$$1\text{Kg} = 10\text{ N}$$

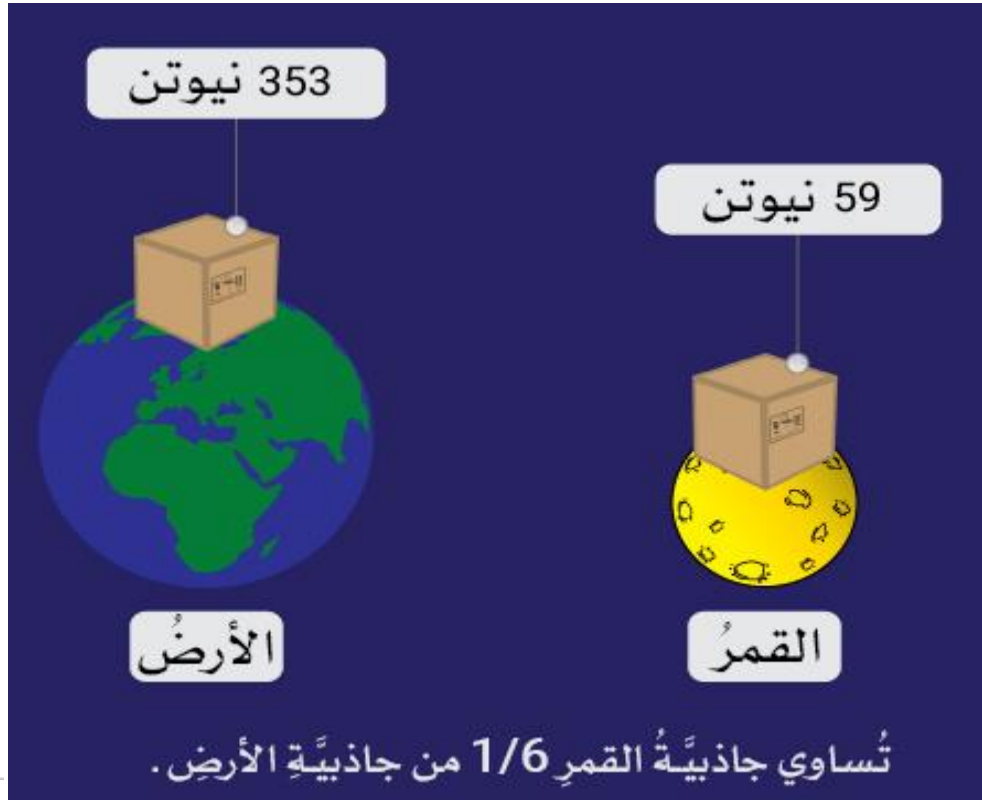
$$1\text{N} = 0.1\text{ Kg}$$

وَيَقْيَسُ الْعُلَمَاءُ الْوَزْنَ بِوَحْدَةِ النِّيوتن (N) يُساوي الكيلوجرام الواحد على الأرض حوالي 9.8.N. وَلِتَحْوِيلِ الكيلوجرامات إلى نيوتن إضْرِبْ عَدَدَ الكيلوجراماتِ فِي 9.8.

الوزن

الوزن هو مدى قوّة الجاذبيّة التي تجذبُ شيئاً ما. تختلفُ قوّةُ الجاذبيّةِ من مكانٍ لآخر، ولذلك قد يتغيّرُ الوزنُ بتغيّرِ المكانِ.

- يقيسُ العلماءُ الوزنَ بالنيوتن (N)
- يُمكنُ استخدامُ كتلةِ الجسمِ بالكيلوجرامِ لإيجادِ وزنه بوحدةِ النيوتن (N)
- نقيسُ وزننا بالكيلوجرامِ، لأن 1 كيلو جرامٍ على الأرضِ حوالي 9.8 نيوتن.
- يتمُّ العثورُ على وزنِ الجسمِ على الأرضِ بضربِ كتلتهِ في 9.8.

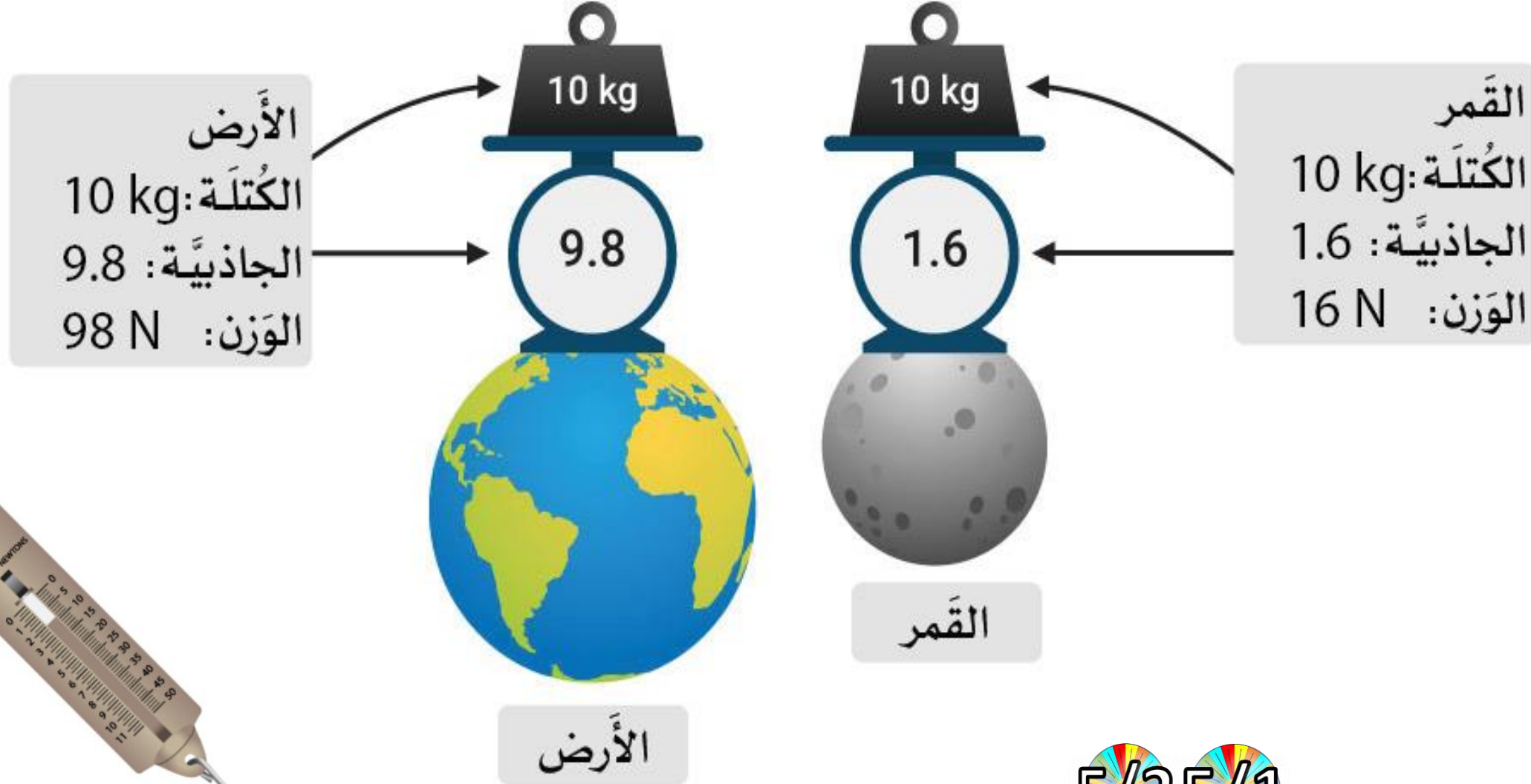


$$\text{الوزن} = \text{الكتلة} \times (9.8 \text{ N} \times \text{kg})$$





الوزن يعتمدُ على الجاذبيَّة، وبما أنَّ قوَّة الجاذبيَّةِ على القمرِ أقلُّ بستِّ مرَّاتٍ مِنَ الأرضِ، فإنَّ وزنك على القمرِ سيكونُ أقلَّ مِنْ وزنك على الأرضِ بستِّ مرَّاتٍ




5/25/1

عم Ammar
عم Abdoh

جاذبية القمر أقل من جاذبية الأرض، لأن القمر له كتلة أقل من كتلة الأرض.



لا يشد القمر رائد الفضاء بقوة، لذلك فإن وزنه على الميزان أقل. يزن رائد الفضاء على القمر أقل منها يزن على الأرض.



كتلة رائد الفضاء هي نفسها على القمر وعلى الأرض.

5/1

5/2

الكتلة

تعريف: مقدار كمية المادة في جسم ما

كتلة الجسم **ثابتة** أينما كان موقع الجسم في الكون

تقاس الكتلة بواسطة الميزان **ذو كفتين**



يُعبّر عن الكتلة بالكيلو جرام (Kg) أو الجرام (g)

الوزن

عم Ammar
عبد Abdoh

تعريف: مقدار قوة الجاذبية المؤثرة على جسم ما

يتغير الوزن بحسب بعد الجسم عن الأرض (أو عن أي جسم ضخّم في الكون)

يقاس الوزن بواسطة الميزان **الزنبركي**



يُعبّر عن الوزن بالنيوتن (N)

الكتلة – الوزن

الأداة	الوحدة	الكمية
 <p>الميزان المتري</p>	<p>وحدة قياس الكتلة بناءً على النظام الدولي للوحدات هي الكيلوجرام (kg).</p>	<p>الكتلة هي كمية المادة الموجودة في شيء معين.</p>
 <p>الميزان الزنبركي</p>	<p>وحدة قياس الوزن بناءً على النظام الدولي للوحدات هي النيوتن (N).</p>	<p>الوزن هو مدى قوة الجاذبية التي تجذب شيئاً ما.</p>

مقارنة بين الكتلة والوزن


الوزن!

- يُقاس وزن جسم ما باستخدام الميزان الزنبركي.
- وزن جسم ما يتغير بتغير المكان.



الكتلة!

- لا تتغير كتلة جسم ما بتغير المكان.
- وحدة قياس الكتلة هي الكيلوجرامات.



مقارنة بين الكتلة والوزن

الوزن	الكتلة
● مدى قوة الجاذبية التي تجذب شيئاً ما.	● كمية المادة الموجودة في شيء معين.
● تقاس بالنيوتن (N).	● تقاس بالكيلوجرام (kg).
● تتغير بتغير موقعها؛ لأنها تعتمد على الجاذبية.	● لا تتغير بتغير موقعها؛ لأنها لا تعتمد على الجاذبية.
● وحدة القياس:	● وحدة القياس:
 الميزان الزنبركي	 الميزان المتري






استخدام إيدو شير EduShare

[Weight_ARABIC - mauthor.com \(moe.gov.ae\)](http://Weight_ARABIC - mauthor.com (moe.gov.ae))



الوزن



أسئلة سريعة

-A ما هو المقصود بالكتلة؟ وما هي الأداة لقياسها؟

-B ما هو المقصود بالوزن؟ وما هي الأداة لقياسها؟

-C ما هي وحدة الكتلة, وما هي وحدة الوزن؟ وكم نيوتن يساوي الكيلوجرام؟

-D ما هو الفرق بين الوزن والكتلة؟

5/2 5/1



الوحدة 1 - الدرس 4

اجراء القياسات - 2

حجم الأجسام الغير منتظمة ودرجة الحرارة - 18





حجم الأجسام الغير منتظمة ودرجة الحرارة - 18



المفردات



نواتج التعلم

الجزء
4

- الملاحظة
- الوصف
- القياس
- ميزان متري
- الميزان الزنبركي
- المخبار المدرج

هَدَفِي هُوَ قِيَاْسُ حَجْمِ السَّوَائِلِ
وَالْأَجْسَامِ غَيْرِ الْمُنْتَظَمَةِ،
وَوُضِعَ كَيْفِيَّةً قِيَاْسِ دَرَجَةِ
الْحَرَارَةِ.

قراءة موجهة - صفحة (68-67-66) 


كيف يمكن حساب الحجم للأجسام ذات الأشكال المنتظمة؟ 

كيف نحسب حجم الأجسام ذات الأشكال الغير منتظمة, والسوائل؟ 


عدد أنواع مقاييس درجة الحرارة (الثيرموميتر). 

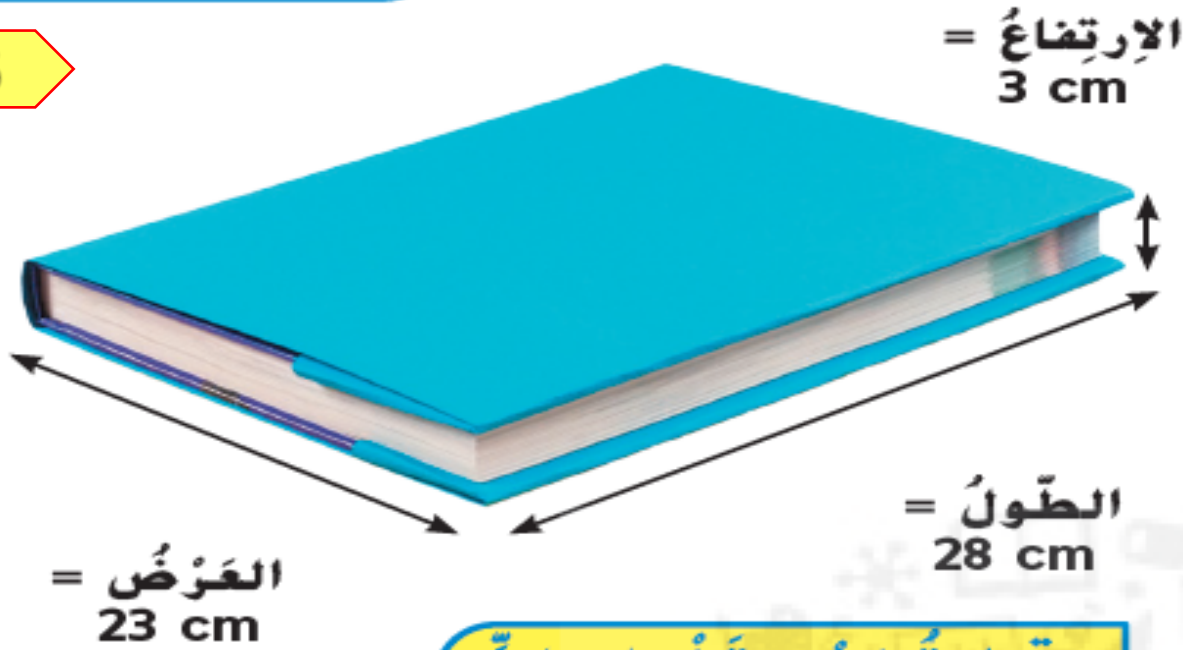


5/2 



5/1 





قِرَاءَةُ رَسْمٍ تَخْطِيطِيٍّ

ما حَجْمُ هَذَا الْكِتَابِ؟ اِشْرَحْ كَيْفَ تَوَصَّلْتَ إِلَى إِجَابَتِكَ؟
الدَّلِيلُ: أَنْظُرْ إِلَى أبعادِ الْكِتَابِ.

الحجم =

$$28cm \times 23cm \times 3cm = 1932cm^3$$

3 كَيْفَ يَتَمُّ قِيَاسُ الْحَجْمِ؟

تَذَكَّرْ أَنَّ الْحَجْمَ هُوَ كَمِّيَّةُ الْحَيِّزِ الَّذِي تَشْغَلُهُ الْمَادَّةُ، وَتَوْجَدُ طَرَائِقُ مُخْتَلِفَةً وَفَقًّا لِلشَّيْءِ لِقِيَاسِ الْحَجْمِ.

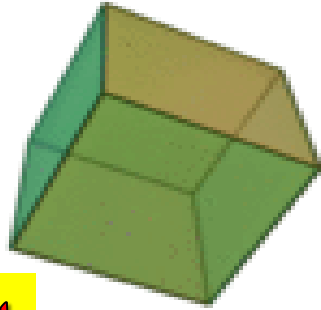
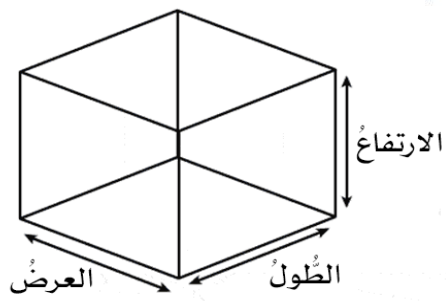
المَوَادُّ الصُّلْبَةُ ذَاتُ الأشْكَالِ الْمُنتَظِمَةِ

يُمْكِنُكَ إِسْتِخْدَامُ مُعَادَلَةٍ لِحَسَابِ حَجْمِ شَيْءٍ صُلْبٍ بِإِسْتِخْدَامِ شَكْلِ هَنْدَسِيٍّ مُنْتَظِمٍ، وَبِالنَّسْبَةِ إِلَى شَيْءٍ مُسْتَطِيلٍ مِثْلَ الْكِتَابِ إِضْرِبْ طَوْلَهُ فِي عَرْضِهِ فِي إِرْتِفَاعِهِ.

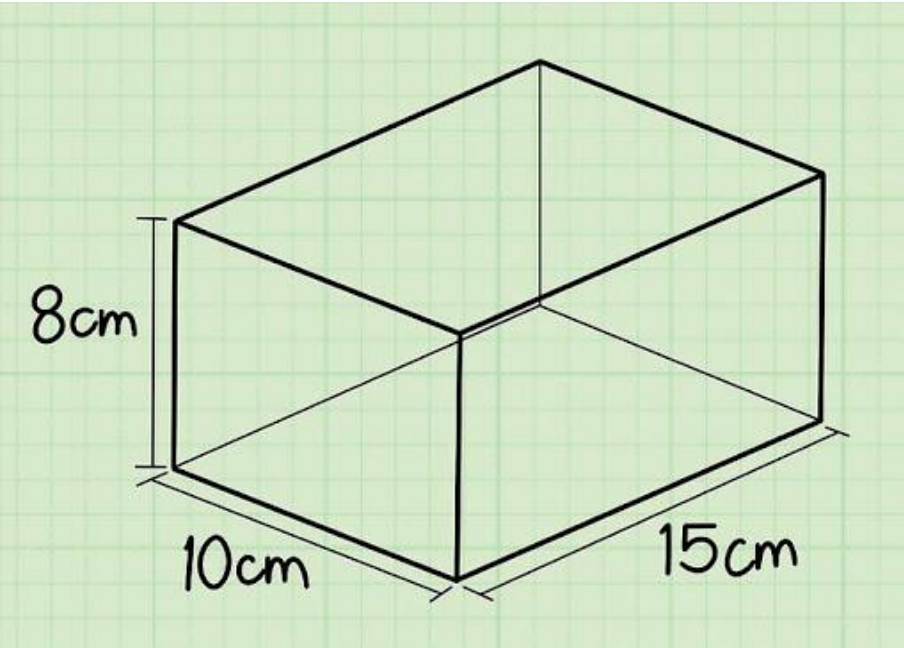
$$\text{الحجم} = \text{الطُّولُ} \times \text{العَرْضُ} \times \text{الإِرْتِفَاعُ}$$

إِذَا كَانَتْ قِيَاسَاتُ طَوْلِكَ وَعَرْضِكَ وَإِرْتِفَاعِكَ بِالسَّنْتِمِترِ فَسَيَكُونُ الْحَجْمُ بِالسَّنْتِمِترِ الْمُكْعَبِ (cm^3).

مُكْعَبُ الْوَحْدَةِ هُوَ مُكْعَبٌ يُسَاوِي طَوْلَ كُلِّ جَانِبٍ مِنْ جَوَانِبِهِ مِقْدَارَ وَحْدَةٍ طَوْلِيَّةٍ وَاحِدَةٍ، وَيَحْتَوِي عَلَى وَحْدَةِ مُكْعَبَةٍ وَاحِدَةٍ مِنَ الْحَجْمِ.



الحجم = الطول \times العرض \times الارتفاع



الحجم

$$15 \times 10 \times 8 = 1200 \text{ cm}^3$$

5/25/1

مُكَّعِبُ الْوَحْدَةِ الَّذِي يَكُونُ طَوْلُ
جَوَانِبِهِ 1 cm يَشْمَلُ حَجْمًا يُسَاوِي 1 cm^3
، وَالكِتَابُ الَّذِي يَصِلُ حَجْمُهُ إِلَى cm^3
1900 يُسَاوِي 1900 مِنْ هَذِهِ الْوَحْدَاتِ
الْمُكَّعِبَةِ. وَبِطَرِيقَةٍ أُخْرَى سَيَشْغَلُ عَدَدُ
مُكَّعِبِ وَحْدَةٍ مُجْتَمَعِينَ يَصِلُ طَوْلُ جَوَانِبِهَا
إِلَى 1 cm الْمِقْدَارَ نَفْسَهُ لِلْمَسَاحَةِ الَّتِي
يَشْغَلُهَا الْكِتَابُ.

يَتِمُّ اسْتِخْدَامُ الْمِخْبَارِ
الْمُدْرَجِ لِقِيَاسِ حَجْمِ
السَّوَائِلِ. ◀



قياس حجم السوائل

يُمْكِنُكَ إِسْتِخْدَامُ دَوْرَقٍ أَوْ مِخْبَارٍ مُدْرَجٍ لِقِيَاسِ أَحْجَامِ السَّوَائِلِ.

المِخْبَارُ المُدْرَجُ هُوَ وَعَاءٌ طَوِيلٌ وَضَيِّقٌ وَشَفَافٌ

يُسْتَخْدَمُ لِقِيَاسِ حَجْمِ السَّوَائِلِ، وَتَشِيرُ العَلَامَاتُ خَارِجَهَا إِلَى عَدَدِ المِيلِيْمِتْرَاتِ، وَعِنْدَ قِرَاءَةِ حَجْمِ السَّائِلِ تَأْكُدُ مِنْ رُؤْيَةِ السَّائِلِ عَلَى مُسْتَوَى العَيْنِ.

يَتِمُّ تَمَثِيلُ حَجْمِ السَّائِلِ بِالمِيلِيْمِتْرَاتِ (mL) أَوِ اللِّتْرَاتِ (L) فِي قِيَاسَاتِ الحَجْمِ، 1 L يُسَاوِي 1000 mL. إِضْرِبْ عَدَدَ اللِّتْرَاتِ فِي 1000 لِلْحُصُولِ عَلَى عَدَدِ المِيلِيْمِتْرَاتِ لِمَادَّةٍ مُعَيَّنَةٍ.


لِحِسَابِ حَجْمِ شَيْءٍ غَيْرِ مُنْتَظَمِ الشَّكْلِ مِثْلَ صَخْرَةٍ أَمْلَأْ وَعَاءً أَوْ مِخْبَارًا مُدْرَجًا بِالمَاءِ بِمِقْدَارِ النِّصْفِ، وَسَجِّلْ مُسْتَوَى المَاءِ، ثُمَّ ضَعْ الشَّيْءَ دَاخِلَ المَاءِ، وَاقْرَأْ مُسْتَوَى المَاءِ الجَدِيدِ، وَاطْرَحْ مُسْتَوَى المَاءِ الأَوَّلِ مِنَ الثَّانِي، فَسَيُعْطِيكَ ذَلِكَ حَجْمَ الشَّيْءِ بِالمِيلِيْمِتْرَاتِ، وَتَعْرِفُ هَذِهِ الطَّرِيقَةَ لِحِسَابِ الحَجْمِ بِالإِزَاحَةِ. المِيلِيْمِتْرُ الوَاحِدُ يُسَاوِي 1 cm^3 ، وَالصَّخْرَةُ الَّتِي يَصِلُ حَجْمُهَا إِلَى 50 mL لَهَا حَجْمٌ يَصِلُ إِلَى 50 cm^3 .

لِحِسَابِ حَجْمِ صَخْرَةٍ اطْرَحِ المَاءَ قَبْلَ وَضْعِ الصَّخْرَةِ مِنْ حَجْمِ المَاءِ بَعْدَ وَضْعِ الصَّخْرَةِ فِيهِ.

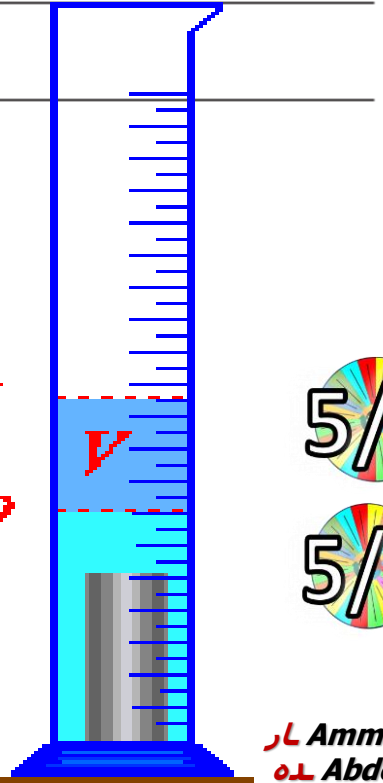
مُراجَعَةٌ سَرِيعَةٌ ✓

4. مَا الفَرْقُ بَيْنَ قِيَاسِ حَجْمِ جِسْمٍ صُلْبٍ وَقِيَاسِ حَجْمِ سَائِلٍ؟

نقيس حجم السائل في وعاء مدرج، والجسم الصلب بالمسطرة ثم نضرب أبعاده



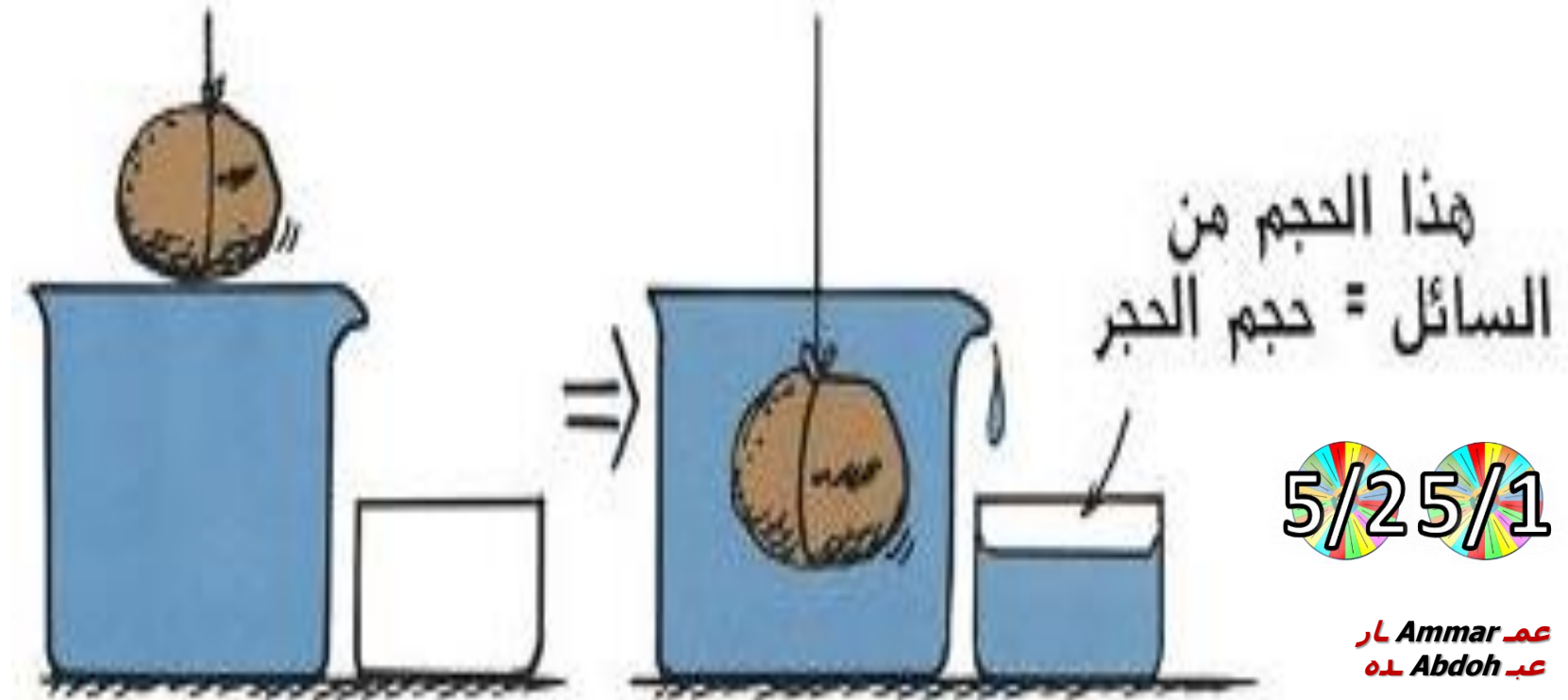
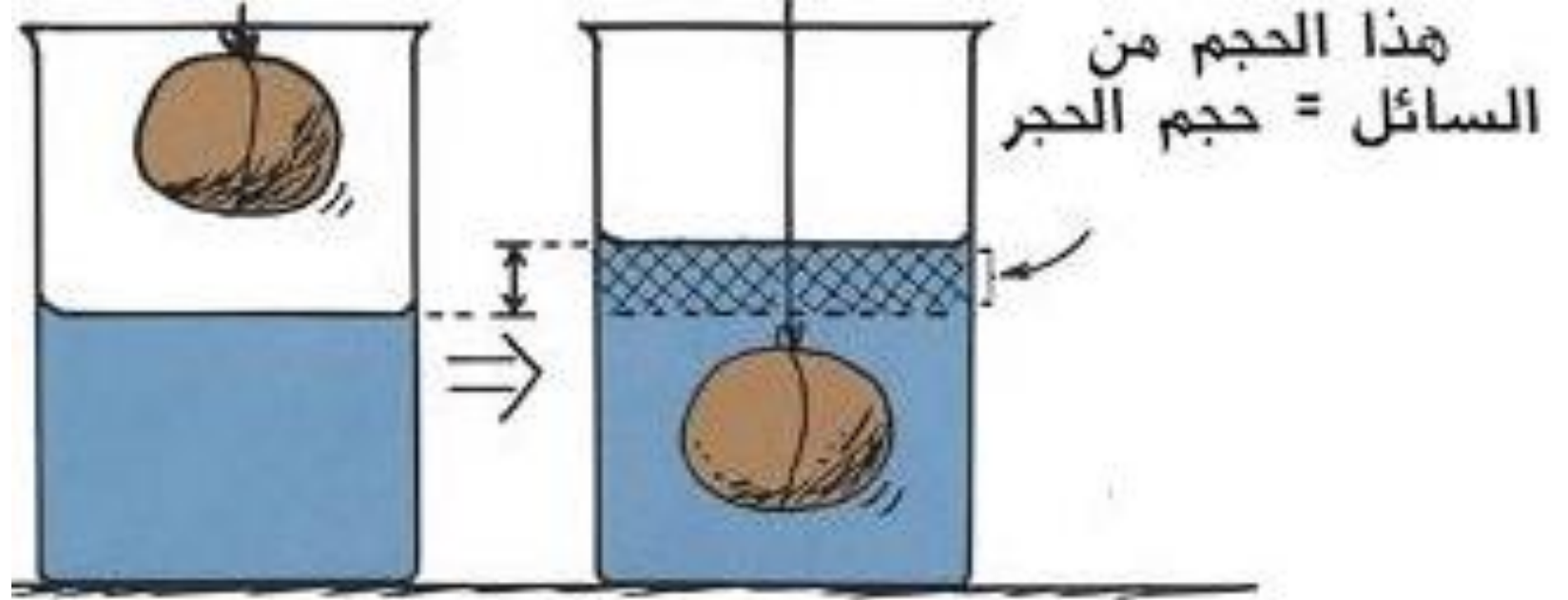

اقْرَأِ المِخْبَارَ المُدْرَجَ بِمُسْتَوَى العَيْنِ. يَحْتَوِي المِخْبَارُ المُدْرَجُ عَلَى 195 mL مِنَ السَّائِلِ.



5/1





5/2

V_1
 V_0



5/25/1

الحجم

الأداة	الوحدة	الكمية
<p>مسطرة متريّة</p> 	 <p>حجمُ المادةِ الصّلبةِ = مكعب الوحدة (cm³)</p>	<p>الحجمُ: هُوَ كميّةُ الحيزِ الَّذي تشغلهُ المادةُ.</p>
 <p>المخابِرُ المُدرّجَةُ</p>	 <p>حجمُ السّائلِ = الملييلترات (mL) أو الليترات (L)</p>	

- يُستخدمُ **المِخْبَارِ المَدْرَجِ** لقياسِ السّوائِلِ.
- وهو وعاءٌ طويلاً وضيقاً وشفافاً يُستخدمُ لقياسِ حجمِ السّوائِلِ **بالميليلترات (mL)**.



5/1


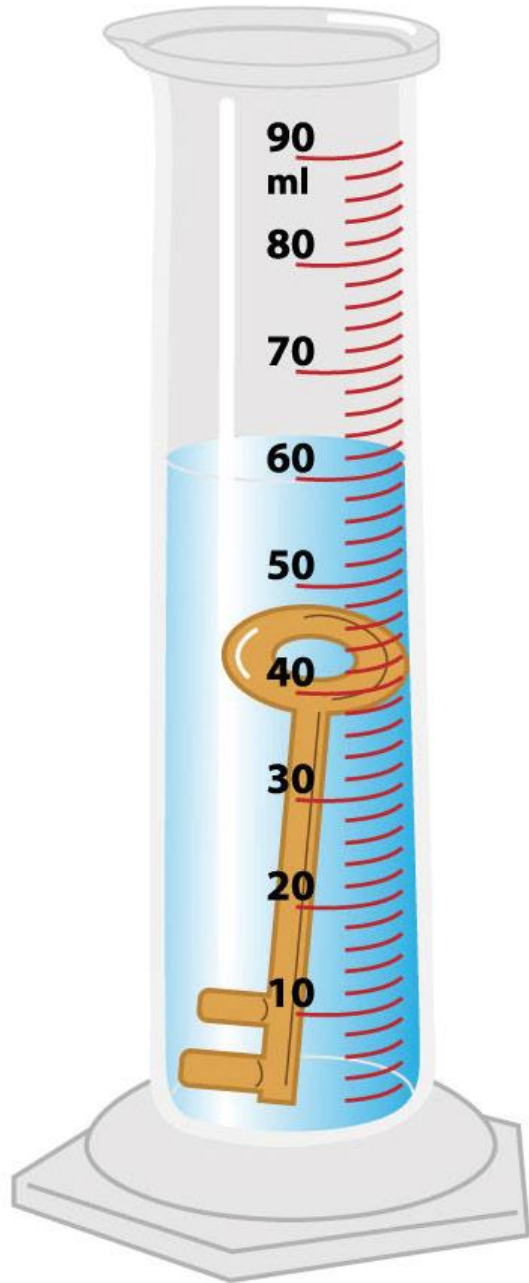

5/2

مخابيرٌ مُدرّجَةٌ




5/1

5/2



V






3

الخطوة 3
ضع الشيء الذي ترغب بقياس حجمه داخل المخبر
بِحذرٍ.

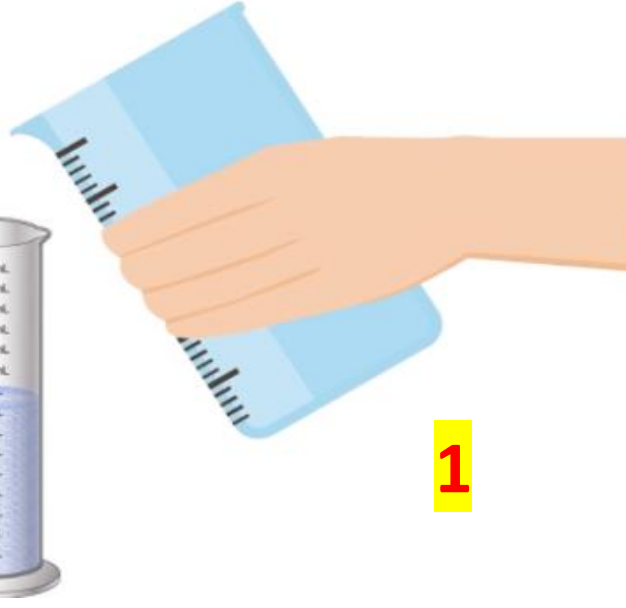
الخطوة 2
سجل مستوى الماء.

80 mL

2

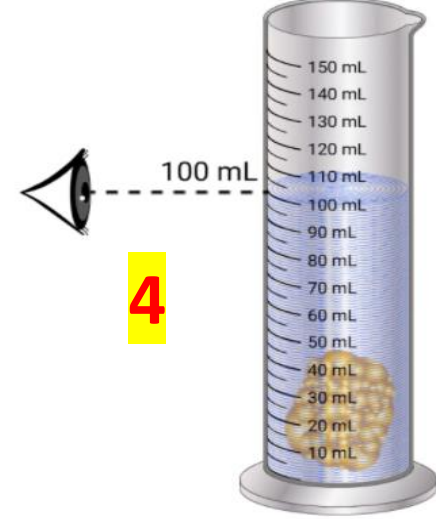


الخطوة 1
ضع كمية من الماء في المخبر المدرج.



1

الخطوة 5
اطرح الحجم في الخطوة 2 من الحجم في الخطوة 4
لايجاد حجم الشيء.



4

الخطوة 4
اقرأ مستوى الماء الجديد.

5
حجم جسم غير منتظم الشكل = الحجم النهائي - الحجم في البداية



أسئلة سريعة

A- كيف نقيس حجم صخرة صغيرة ليس لها شكل منتظم؟

B- ما هي وحدات الحجم للأجسام الصلبة والسائلة؟

C- ما هي أنواع مقاييس درجات الحرارة؟

D- كم تساوي درجة غليان الماء في المقياس السيليزي, والفهرنهايتي؟

5/25/1

وَيَتَمَدَّدُ هَذَا السَّائِلُ عِنْدَمَا تَرْتَفِعُ دَرَجَةُ حَرَارَتِهِ،
وَيُمْكِنُكَ قِرَاءَةُ دَرَجَةِ الْحَرَارَةِ بِالنَّظَرِ إِلَى الْعَلَامَةِ
عِنْدَ مُسْتَوَى السَّائِلِ.

يَحْتَوِي مِقْيَاسُ دَرَجَةِ الْحَرَارَةِ ذُو الْقُرْصِ عَلَى
شَرِيطٍ مَلْفُوفٍ مَصْنُوعٍ مِنْ فِلِزِّينٍ، وَيَتَمَدَّدُ الشَّرِيطُ
عِنْدَمَا تَرْتَفِعُ دَرَجَةُ حَرَارَتِهِ.

وَيَتَكُونُ مِقْيَاسُ دَرَجَةِ الْحَرَارَةِ ذُو الْبِلُّورَاتِ
السَّائِلَةِ مِنْ شَرِيطٍ بِلَاسْتِيكِيٍّ مَمْلُوءٍ بِمَوَادٍّ يَتَغَيَّرُ
لَوْنُهَا عِنْدَ دَرَجَاتِ حَرَارَةٍ مُعَيَّنَةٍ، وَيُوجَدُ فِي مِقْيَاسِ
دَرَجَةِ الْحَرَارَةِ الْإِلِكْتْرُونِيِّ أَوْ الرَّقْمِيِّ مُسْتَشْعِرٌ
إِلِكْتْرُونِيٌّ يَكْشِفُ عَنْ دَرَجَةِ حَرَارَةِ الشَّيْءِ.

5/1

5/2



4 كَيْفَ يَتِمُّ قِيَاسُ دَرَجَةِ الْحَرَارَةِ؟

يُسْتَعْمَدُ مِقْيَاسُ دَرَجَةِ الْحَرَارَةِ لِقِيَاسِ
دَرَجَةِ الْحَرَارَةِ، وَتَشْمَلُ مَقَابِيِسُ دَرَجَةِ الْحَرَارَةِ
السَّائِعَةَ كَمَا 1 مِنْ مِقْيَاسِ فِهْرِنهَيْتِ (°F).
2 وَمِقْيَاسِ سِيلِزْيُوسِ (°C) وَمِقْيَاسِ كِلْفِنِ (K). 3
وَتَكُونُ مُعْظَمُ الدَّرَجَاتِ فِي الْعُلُومِ بِالدَّرَجَاتِ
السَّيْلِزْيِيَّةِ.

لَا تَوْجَدُ فِي مِقْيَاسِ كِلْفِنِ أَرْقَامٌ بِالسَّالِبِ،
وَلَا يَسْتَعْمَدُ مِقْيَاسُ كِلْفِنِ كَلِمَةَ "دَرَجَاتٍ"، وَهُوَ
يَسْتَعْمَدُ الْمُصْطَلَحَ "كِلفِن" بِبَسَاطَةٍ مِثْلَ "312
كِلفِن".

تَوْجَدُ أَنْوَاعٌ كَثِيرَةٌ مُخْتَلِفَةٌ مِنْ مَقَابِيِسِ
دَرَجَةِ الْحَرَارَةِ، وَيُوجَدُ نَوْعٌ مِنْ مَقَابِيِسِ دَرَجَةِ
الْحَرَارَةِ هُوَ عِبَارَةٌ عَنْ سَائِلٍ فِي أَنْبُوبٍ
زُجَاجِيٍّ.


أَنْبُوبٌ زُجَاجِيٌّ شَفَافٌ يَحْتَوِي عَلَى سَائِلٍ،

قراءة صُورَة

كيف تَتَمُّ المُقارَنَة بين مَقاييس دَرَجَة
الحرارة المَوْضَحَة هُنَا؟
الدَّلِيلُ: اُنظُرْ كيف يُشِيرُ كُلُّ مَقاييس لِدرجة
الحرارة إلى دَرَجَة الحرارة؟

لكل مقياس طريقة مختلفة لقياس
درجة الحرارة وبعضها أكثر دقة

أنواع مَقاييس دَرَجَة الحرارة



5/1

5/2

مقياس دَرَجَة حرارة
رُجَاجِيّ مَرَوْدٍ بِسائِلٍ



مقياس دَرَجَة الحرارة
المَرَوْدُ بِفَرَصٍ



مقياس دَرَجَة حرارة رَقْمِيّ أَوْ إلكترونيّ



مقياس دَرَجَة الحرارة
ذو البِلورات السائِلَة.



يتم قياس درجة الحرارة باستخدام مقياس درجة الحرارة.

يوجد أنواع مختلفة من موازين الحرارة.
بالإضافة إلى مقاييس درجات الحرارة المختلفة
المستخدمة لقياس درجة الحرارة.



5/1

5/2

درجة الحرارة

الأداة



مقياس درجة الحرارة

الوحدة

وحدة قياس درجة الحرارة
بناءً على النظام
الدولي للوحدات
هي كلفن (K).

وتشمل مقاييس
درجة الحرارة
الشائعة كلاً من

مقياس سيلزيوس (°C)،
ومقياس فهرنهايت (°F).

الكمية


درجة الحرارة:
هي كمية الحرارة
الموجودة في مادة،
أو شيء ما.

يتمّ قياسُ درجة الحرارة
باستخدام مقياسِ درجة الحرارة.

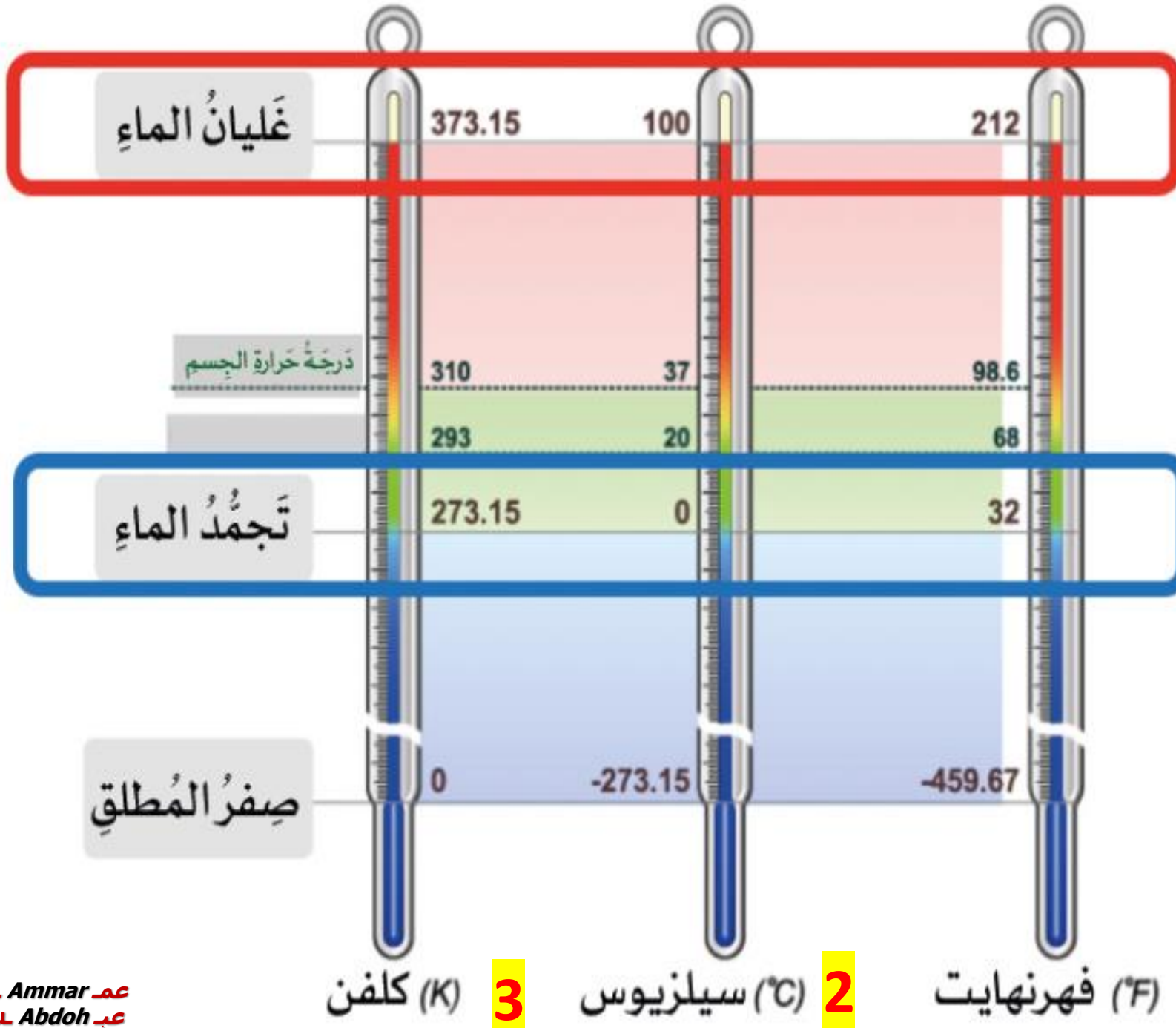
1- مقياس فهرنهايت (F)

2- مقياس سيلزيوس (C)

3- مقياس كلفن (K)



5/25/1



1 فهرنهايت (°F) 2 سيلزيوس (°C) 3 كلفن (K)

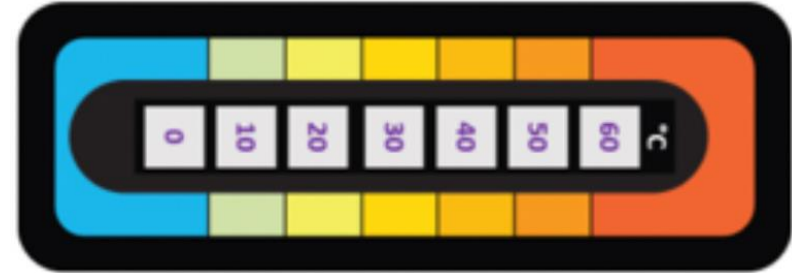


أنواع مقاييس الحرارة



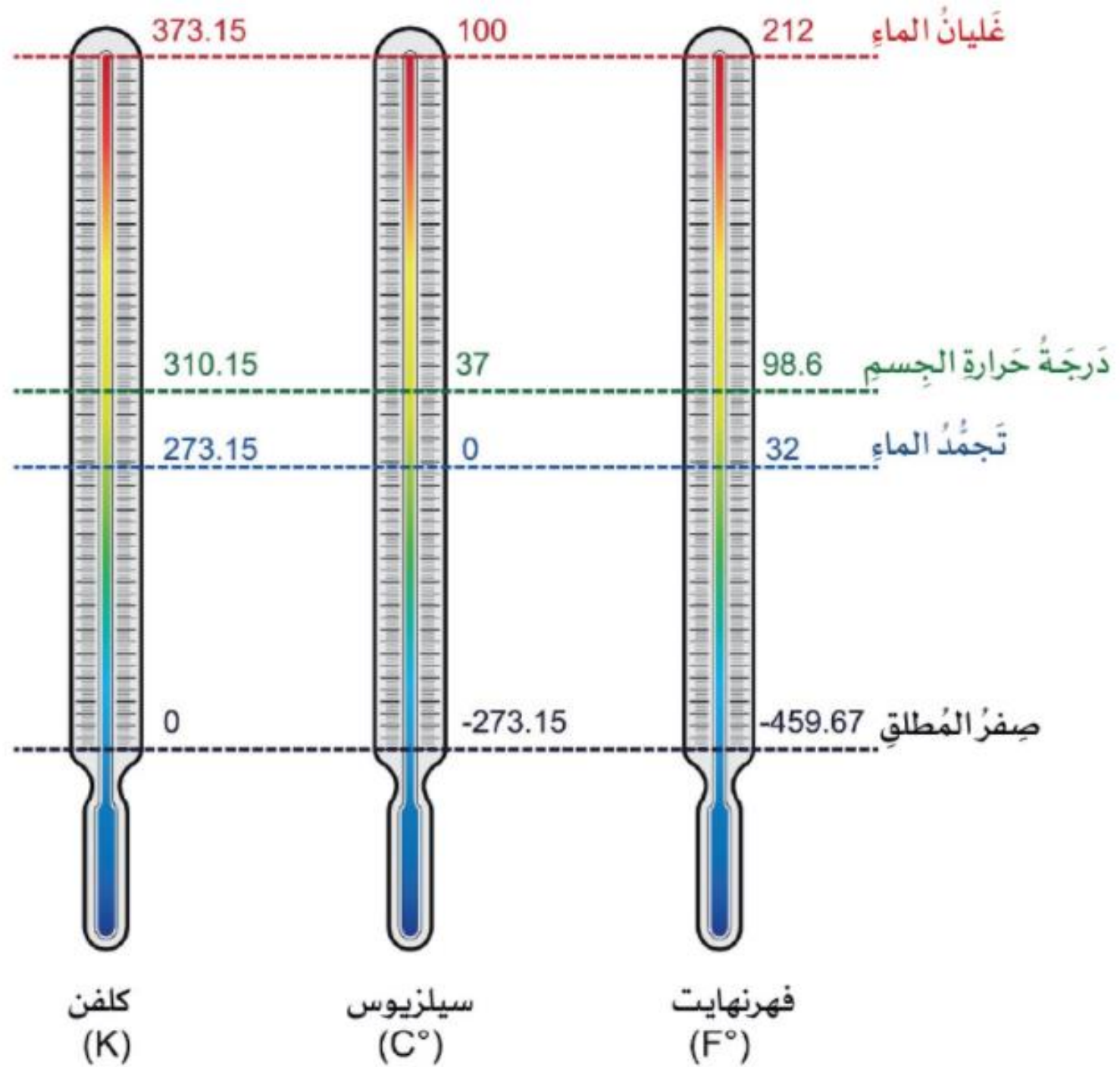
- مقياسُ درجة الحرارة المزوّدُ بقُرصٍ**
- يحتوي على شريطٍ ملفوفٍ مصنوعٍ من فلزّين.
 - ويتمدّد الشريطُ عندما ترتفعُ درجة حرارته.

- مقياسُ درجة حرارة زجاجيٍّ مزوّدٍ بسائلٍ**
- أنبوبٌ زجاجيٌّ شفافٌ يحتوي على سائلٍ.
 - يتمدّد السائلُ عندما ترتفعُ درجة حرارته.

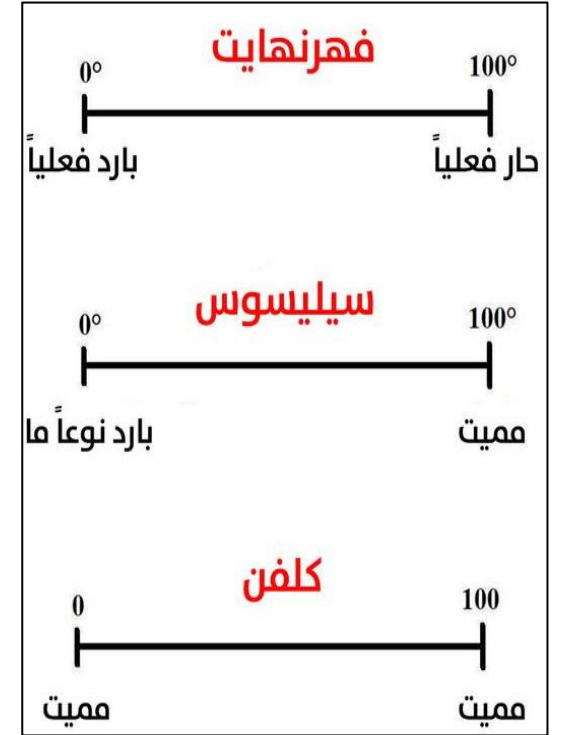
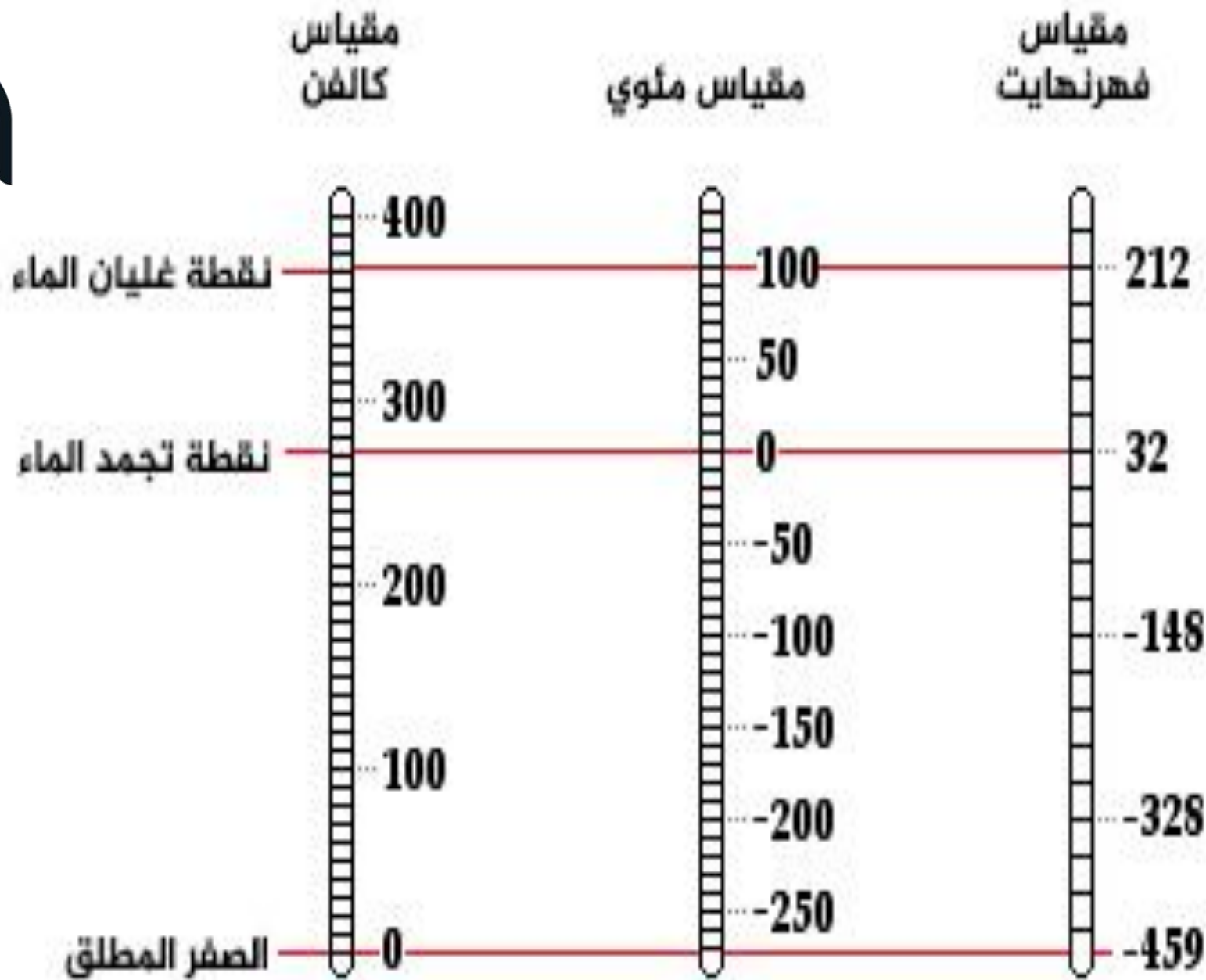


- مقياسُ درجة حرارة رقميٍّ أو إلكترونيٍّ**
- يحتوي على كمبيوترٍ صغيرٍ ومُستشعرٍ إلكترونيٍّ.
 - تعرضُ الشاشةُ الرقميةُ قراءةَ درجة الحرارة.



- مقياسُ درجة الحرارة ذو البلّورات السائلة.**
- شريطٌ بلاستيكيٌّ مملوءٌ ببلّوراتٍ سائلةٍ.
 - يتغيّر لونُ البلّوراتِ عندَ درجاتِ حرارةٍ معيّنةٍ.



5/25/1



5/25/1



أسئلة سريعة

A- احسب حجم مكعب طول ضلعه (2 cm)؟ ما هي أداة القياس التي استخدمتها؟

B- كيف نحسب حجم صخرة صغيرة؟ ما هي أداة القياس التي استخدمتها؟

C- يبلغ طول الطاولة (1.5 m) كم يبلغ طولها بالسنتيمتر؟


D- كم تساوي درجة غليان الماء في المقياس السيليزي, والفهرنهايتي؟

E- كم نيوتن يبلغ وزن جسم كتلته (1000 g)؟

5/2 5/1

ملخص

يُمكنُ ملاحظة الخصائص الفيزيائية باستخدام الحواس، وقياسها باستخدام الأدوات.
تستخدم أدوات خاصة، كالعَدسات المُكبِّرة والمجاهر لملاحظة الأشياء الصغيرة.
يستخدم العلماء النظام الدولي للوحدات (SI) بادئات الوحدة المترية لقياس الخصائص الفيزيائية.



5/1

5/2





اسمُ الأداة:
المخبارُ المدرجُ
الوصفُ:
يقيسُ حجمَ
السّوائلِ بالمليلتراتِ.



اسمُ الأداة:
الميزانُ المتريُّ
الوصفُ:
يقيسُ الكتلةَ بالجراماتِ.

القياسُ
بالقياساتِ



اسمُ الأداة:
الميزانُ الزُّنبركيُّ
الوصفُ:
يقيسُ الوزنَ بالنيوتنِ.




اسمُ الأداة:
المسطرةُ المتريَّةُ
الوصفُ:
تقيسُ الطُّولَ والعرضَ
والارتفاعَ بالسنتيمتراتِ.



الوحدة 1 - إعداد أفضل العلماء




اختبر معلوماتي 1 - 19







الوحدة 1 - إعداد أفضل العلماء




اختبار تقييمي 1 - 20



انتهى الدرس





استراتيجية تذكرة الخروج

الاسم :

تذكرة خروج لدرس

Four horizontal lines for writing, with dashed midlines for alignment.

الانطباع العام عن الدرس





برنامج محمد بن راشد للتعليم الذكي
Mohammed Bin Rashid's Smart Learning Program



استخدام البوابة الإلكترونية LMS

واجب إلكتروني

المُلاحَظَةُ وَالوُصْفُ

نتعرف على الخصائص بالملاحظة,
ونقلها بالوصف.



خِصَائِصُ الْأَشْيَاءِ

نعرف الأشياء من خصائصها كالطول،
والوزن، والكتلة



قياس الحجم ودرجة الحرارة

الحجم بطريقة الإزاحة
درجة الحرارة باستخدام الترموميتر



5/1

5/2

فَكَّرُ، وَتَحَدَّثُ، وَاكْتُبُ

1 المَفْرَدَاتُ يَتِمُّ اسْتِخْدَامُ وَعَاءِ طَوِيلٍ وَضَيْقٍ وَشَقَافٍ مِنْ أَجْلِ قِيَاسِ

حَجْمِ السَّوَائِلِ هِيَ اسْطِوَانَةٌ مَدْرَجَةٌ أَوْ الْمَخْبَارُ الْمَدْرَجُ

2 قَارِنُ، وَبَيِّنِ الْفَرْقَ كَيْفَ تَكُونُ الْمُلَاحَظَةُ وَالْوُصْفُ لِشَيْءٍ مُعَيَّنٍ مُتَمَاثِلَيْنِ؟ مَا مَدَى

الِاخْتِلَافِ بَيْنَهُمَا؟

5/1

5/2

الْوُصْفُ

مُتَشَابِهَةٌ

الْمُلَاحَظَةُ

شَيْءٌ تَخْبِرُ بِهِ
شَخْصاً مُعَيَّناً

عِنْدَ إِشْرَاكَ
الْحَوَاسِ فِي
الْوُصْفِ

شَيْءٌ مَا تَلَا حَظَّهُ

3 التَّفْكِيرُ النَّاقِدُ هَلْ سَيَظَلُّ مِيزَانٌ عَلَى سَطْحِ الْقَمَرِ الَّذِي تُعَادِلُ جاذِبِيَّتُهُ سُدَسَ جاذِبِيَّةِ الْأَرْضِ يَقْرَأُ الْكُتْلَ بِشَكْلِ صَحِيحٍ؟ فَسِّرْ إِجَابَتَكَ. سِوَاةً أَكَاثُ (نَعَمْ) أَوْ (لَا).

نعم, لأن الميزان يقيس الكتلة, والكتلة لا تتغير بين الأرض والقمر.

4 الإِعدادُ لِلإِختبارِ أَيُّ خَاصِيَّةٍ تُقَيَسُ الحَيِّزُ الَّذِي يَشغَلُهُ شَيْءٌ مَا؟
 A الحَجْمُ
 B الكُتْلَةُ
 C دَرَجَةُ الحَرَارَةِ
 D الوِزْنُ

5 الإِعدادُ لِلإِختبارِ أَيُّ صِفَةٍ تُعْتَمَدُ عَلَى قُوَّةِ الجاذِبِيَّةِ؟
 A الحَجْمُ
 B الكُتْلَةُ
 C دَرَجَةُ الحَرَارَةِ
 D الوِزْنُ

5/1

5/2

كيف يمكن قياس خصائص الأشياء؟

السؤال الرئيسي

نقيس الخصائص الكمية باستخدام الأدوات المناسبة لكل خاصية,

كالمساطر, والموازين, والثيرموميتر...

◀ تعرّف إلى ذلك

القياس هو حساب الحجم، أو المسافة، أو الزمن، أو المساحة، أو الكتلة أو درجة الحرارة لشيء معين. ومن الضروريّ تسجيل القياسات، وإذا كنت تستخدم جدولاً لتسجيل المعلومات فستتمكن من رؤية البيانات بنظرة سريعة.

الكثافة هي إحدى الخصائص الفيزيائية التي يمكن قياسها، وهي نسبة الكتلة إلى الحجم. ولحساب الكثافة لشيء معين أقسم كتلته على حجمه، كما يمكن قياس الحجم بالسنتيمترات المكعبة، لذا يمكن تمثيل الكثافة بالجرام لكل سنتيمتر مكعب.

مهارة الاستقصاء: القياس

المادة هي الشيء الذي يصنع كل الأشياء، وتوجد ملايين الأشياء المختلفة في هذا العالم، فكيف يميّز العلماء بين شيء وآخر؟ **ومن إحدى الطرق بذلك** قياس الخصائص الفيزيائية العامة للأشياء، والمقارنة بينها.



يُمكنك استخدام الماء لحساب حجم بعض الأشياء.



يُعادل الماء المزاج حجم الشيء.

عم Ammar
عب Abdoh

5/2 5/1

الخواص الفيزيائية للأشياء					
الشيء	اللون	النسيج	الكتلة (g)	الحجم (cm ³)	الكثافة (g/cm ³)
كتلة خشبية					
مكعب سكر					
كرة الغولف					
كرة تنس طاولة					
ورقة					
شعلة					
طباشير					
ملعقة					
بلاستيك					



الخواص الفيزيائية للأشياء

الشيء	اللون	النسيج	الكتلة (g)	الحجم (cm ³)	الكثافة (g/cm ³)
كتلة خشبية	أصفر	خشنة			
مكعب حديد	أبيض	هش			
كرة الغولف	أبيض	نافرة			
كرة تنس طاولة	أبيض	ناعمة			
ورقة	أبيض	ناعم طري			
قطعة طباشير	أبيض	قاسي قليلا			
ملعقة بلاستيك	أبيض	لينة			

5/1

5/2

جَرِّبْ ذَلِكَ

بالنسبة إلى الأشياء التدرجية في الجدول في الصفحة 86، أي الأشياء تعتمد أنه يطابق "المادة الغامضة" التوضيحية في هذا الصندوق؟ فكر في مدى صحة إجابتك. فيما يلي كيفية فعل ذلك.

التواد

كتلة خشبية، مكعب سكر، كرة غولف، كرة تنس طاولة، نموذج وزني، قطعة طباشير، ملعقة بلاستيكية، ميزان، أوزان بالجرام، مسطرة، وخيار مدرج، ماء، قلم رصاص.

1 لاحظ لون كل شيء وبنيتة.

2 سجل المعلومات في الجدول التالي.

العنصر	اللون	البنية	الكتلة	الحجم	الكثافة

3 **قس**، وسجل كتلة كل شيء بالجرام باستخدام الميزان وقمومعة الكتلة البعاريّة.

4 أحسب حجم الأشياء التي تستطيع ذات الشكل المنتظم باستخدام هذه التعادلية: الحجم = الطول × العرض × الارتفاع. سجل النتائج في جدولك.

5 لحساب حجم الأشياء ذات الأشكال غير المنتظمة، إملأ وخياراً مدرجاً بشكل جزئي بالماء، و**قيس** الحجم. ضع الشيء في المخبر، وإذا طغى الشيء فاستخدم بيت القلم الرصاص لدفن تحت الماء. **قيس** الحجم الجديد، ثم اطرخ حجم الماء وخذ من حجم الماء بعد وضع الشيء فيه، وسجل ذلك كحجم للشيء في جدولك.

6 أحسب كثافة كل شيء، وسجل البيانات في جدولك.

مادّة غامضة

اللون: بيضاء

البنية: ناعمة

الكثافة: 2.6 g/cm³

طبّق ذلك

1 أي الأشياء يُميِّز بأنه أقل كثافة؟ وماذا كانت المادة الغامضة؟ وهل يكون الشيء الأصغر أخص وزناً دائماً من الشيء الأكبر؟

2 فم بإعداد رسم تبياني بالأعمدة لعرض قياسات الكثافة، وارسم صوره لكل عنصر، ثم لون الأعمدة للبعازنة السريعة بين الكثافات الجليّة للكائنات من الأقل كثافة إلى الأكثر كثافة.

3 اخبّر بعض الأغراض من فضلك الدراسي، وتنبأ بالعرض الذي سيكون أقل كثافة. **قيس** كتلة كل شيء وحجمه، ثم احسب كثافته. هل كان تنبؤك صحيحاً؟

5/1

5/2

1

مراجعة الوحدة

أَنْ تُصَبِّحَ عَالِياً

العلم منهاج لدراسة الطبيعة.



الطَّرِيقَةُ الْعِلْمِيَّةُ

عملية يستخدمها العلماء للإجابة عن أسئلتهم.



أدوات العالم

يجري العلماء التحقيقات ويكتبون الملاحظات للبيانات.



إجراء قياسات

يستخدم العلماء الأدوات لإجراء القياسات.



5/25/1

المفردات

5/25/1

1- المتغير التابع

2- طريقة علمية

3- بيانات

5- ميزان متري

7- التكنولوجيا

10- ميزان زنبركي

الدقة
بيانات
المتغير التابع
فرضية
المتغير المستقل
متوسط حسابي
ميزان متري
الطريقة العلمية
ميزان زنبركي
تكنولوجيا

1. العامل الذي يتم قياسه في أثناء التحقّق، يُسمى _____.
2. سلسلة من الخطوات التي يستخدمها العلماء عند إجراء تحقيق علمي تُسمى _____.
3. تُسمى المعلومات التي يتم جمعها في أثناء التحقيق العلمي _____.
4. يستخدم العلماء _____ للتأكد من أنّ المهام والإجراءات يمكن أن تتكرّر مع وجود اختلافات بسيطة.
5. يتم قياس كتلة شيء ما باستخدام _____.
6. هو مجموع الأعداد مقسومة على عدد المدخلات في مجموعة البيانات.
7. يُسمى استخدام العلوم لتلبية احتياجات الإنسان ورغباته باسم _____.
8. في تجربة مضبوطة هو المتغير الذي يُغيّر.
9. في تحقيق مُعيّن هي تنبؤ يمكن اختبار صحته.
10. يُستخدم _____ لقياس الوزن.

4- الضبط

6- متوسط حسابي

8- المتغير المستقل

9- الفرضية

11. **إِسْتِخْدَامُ الْمُنْتَجِبَاتِ** عندما يَرغِبُ العُلَمَاءُ في دراسةِ كيفَ سَتَعْمَلُ أدويةٌ جَدِيدَةٌ، تَحْصُلُ مَجْمُوعَةٌ وَاحِدَةٌ مِنَ المَرَضَى عَلَى الدَّوَاءِ، وَلَا تَحْصُلُ مَجْمُوعَةٌ أُخْرَى عَلَيْهِ. إِشْرَحِ السَّبَبَ.

11- مجموعة الاختبار (التجريبية) هي تأخذ العلاج, والتي لا تأخذ العلاج مجموعة الضابطة, نقارن بينهما لمعرفة أثر الدواء.

12. **إِسْتِدِلُّ** لماذا مِنَ المِهْمِ بِالنَّسْبَةِ إِلَى العُلَمَاءِ نَقْلُ المَعْلُومَاتِ حَوْلَ عَمَلِهِمُ وَالتَّخَدُّمِ الَّذِي يُحْرَزُونَهُ؟

12- بمشاركة المعلومات يمكن للعلماء التعلم بسرعة أكبر.

13. **تَوَاصَلْ** إِشْرَحْ لماذا يَجِبُ التَّحَقُّقُ مِنَ صِحَّةِ تَجْرِبَةٍ مُعَيَّنَةٍ مِنْ جِلالِ العَدِيدِ مِنَ عَمَلِيَّاتِ التَّحْقِيقِ قَبْلَ المُوَافَقَةِ عَلَى النَتَائِجِ؟

13- للتقليل من الأخطاء البشرية والمتغيرات الأخرى.

14. **نَحْضُ** صَفِّ ثَلَاثَ حُطُوبَاتٍ إِجْرَائِيَّةٍ لِلأَمَانِ يَجِبُ اتِّبَاعُهَا عِنْدَ إِجْرَاءِ تَحْقِيقٍ عِلْمِيٍّ.

14- لبس النظارات الواقية, المعطف, وغسل اليدين قبل وبعد التحقيق.



15- نحلل البيانات لمعرفة هل الفرضية صحيحة أو تحتاج مراجعة.

16. ما نوع العرض الذي سيمثل عدد مرات الفوز لكل فريق كرة قدم في

مقاطعة مدرستك بشكل أفضل؟

أ رسم بياني خطي.

ب رسم بياني دائري.

ج رسم بياني بالأعمدة.

د وحدات مثرية.

17. **تنبأ** اختر مهنة في العلوم تستخدم نوعاً من التكنولوجيا.

اشرح كيف ستكون هذه المهنة مختلفة إذا لم يتم اختراع التكنولوجيا؟

17- نستخدم المجاهر لدراسة الاحياء الدقيقة, فالتكنولوجيا ساعدت في

اختراع المجاهر.

5/1

5/2

18. كيف ينفذ العلماء التحقيقات العلمية؟

18- يستخدم العلماء الطريقة العلمية, والأدوات للقياس والتحليل,

ويتبعون اجراءات السلامة.

التحضير للاختبار

3. يُنْتَجُ فَارِسٌ نَحِيصًا عِلْمِيًّا بِاسْتِخْدَامِ الْأَدَاةِ أَدْنَاهُ،
فِي أَيِّ وَحْدَةٍ فِي النِّظَامِ الْبَيْتِيِّ يَحْتَمَلُ أَنْ يَسْجَلَ
فَارِسٌ بَيَانَاتِهِ؟



A الجرامات.

B الأظطال.

C الأمتار.

D السنتيمترات المكعبة.

A -3

4. أَيُّ نَوْعٍ مِنَ التَّنْشِيلَاتِ الْبَيَانِيَّةِ يَجِبُ اسْتِخْدَامُهُ
لِعَرْضِ تَرْكِيْبِ الْغَازَاتِ فِي الْغُلَافِ الْجَوِّيِّ
لِلْأَرْضِ؟

A رَسْمٌ بَيَانِيٌّ خَطِّيٌّ.

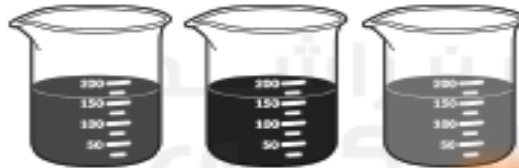
B مَخَطَطٌ مَبْعَثَرٌ.

C رَسْمٌ بَيَانِيٌّ بِالْأَعْمِدَةِ.

D رَسْمٌ بَيَانِيٌّ دَائِرِيٌّ.

C -4

5. مَا الْوَصْفُ الدَّقِيقُ لِلسَّوَائِلِ أَدْنَاهُ؟



A السَّائِلُ فِي الْوِعَاءِ الْأَوْسَطِ دَاكِنُ اللَّوْنِ
بِذَرَجَةٍ تَفُوقُ السَّوَائِلِ الْأُخْرَى.

B السَّائِلُ فِي الْوِعَاءِ عَلَى الْيَسِينِ أَقْلُ ذَرَجَةٍ
فِي اللَّوْنِ، لِأَنَّ السَّائِلَ أَكْثَرَ تَرْكِيْبًا.

C السَّوَائِلُ كُلُّهَا لَهَا الْكِنْتَلَةُ نَفْسِيًّا.

D الْإِخْتِلَافَاتُ فِي اللَّوْنِ نَاتِجَةٌ عَنِ النِّوَادِ
الدَّائِيَّةِ الْمُخْتَلِفَةِ فِي السَّوَائِلِ.

A -5

1. تُنْتَجُ هَالَةُ نَجْرِيَّةٌ لِنَعْرِفَةِ هَلِ الْإِزْتِنَاعُ الَّذِي
تُسَخَطُ مِنْهُ كُرَّةٌ مَحْطَاطِيَّةٌ سَيؤَثِّرُ عَلَى الْإِزْتِنَاعِ
الَّذِي سَتُرْتَدُّ إِلَيْهِ الْكُرَّةُ أَمْ لَا؟ مَا التَّخَطُّرُ الْمُنْتَشِطُ
فِي نَجْرِيَّتَيْهَا؟

A الْكُرَّةُ الْمَحْطَاطِيَّةُ.

B الْإِزْتِنَاعُ الَّذِي تَسَخَطُ مِنْهُ الْكُرَّةُ.

C الْإِزْتِنَاعُ الَّذِي سَتُرْتَدُّ إِلَيْهِ الْكُرَّةُ.

D كِنْتَلَةُ الْكُرَّةِ.

2. يُوضِّحُ الْجَدْوَلُ أَدْنَاهُ مَتَوَسَّطَ ذَرَجَاتِ الْخِرَازَةِ
وَسُحُوطِ الْأَمْطَارِ كُلِّ شَهْرٍ مَرَّتَيْنِ فِي مَدِينَتَيْنِ.

المدينة A	مارس	أبريل	مايو
متوسط درجة الحرارة	6°C	12°C	18°C
متوسط سقوط المطر	43 cm	38 cm	8 cm

المدينة B	مارس	أبريل	مايو
متوسط درجة الحرارة	5°C	9°C	12°C
متوسط سقوط المطر	10 cm	71 cm	41 cm

ما الإِسْتِنَاعُ الَّذِي يَتِمُّ التَّوَصُّلُ إِلَيْهِ مِنَ الْبَيَانَاتِ؟

A ذَرَجَاتُ خِرَازَةِ فَضْلِ الرَّبِيعِ فِي الْمَدِينَةِ A
أَقْلُ مِنْ مَثِيلَتِهَا فِي الْمَدِينَةِ B.

B لَا يُوْجَدُ إِخْتِلَافٌ فِي ذَرَجَاتِ خِرَازَةِ فَضْلِ
الرَّبِيعِ فِي الْمَدِينَةِ A مِثْلَمَا يَحْدُثُ فِي
ذَرَجَاتِ خِرَازَةِ فَضْلِ الرَّبِيعِ فِي الْمَدِينَةِ B.

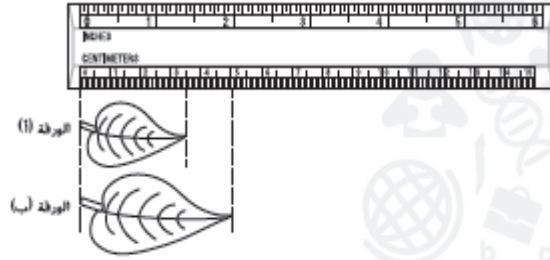
C يَسَخَطُ النِّطْرُ فِي الْمَدِينَةِ A بِذَرَجَةٍ أَكْثَرَ
مِنَ الْمَدِينَةِ B فِي فَضْلِ الرَّبِيعِ.

D تُوْجَدُ فِي الْمَدِينَةِ B ذَرَجَاتُ خِرَازَةٍ أَقْلَ فِي
فَضْلِ الرَّبِيعِ مُعَارَنَةً بِالْمَدِينَةِ A.

B -1

D -2

9. ما طُول الورقة "ب" في وحدات النّظام الميترّي؟



- A 5 بوصات.
B سنتيمتران.
C 2.5 سنتيمتر.
D 5 سنتيمتر.

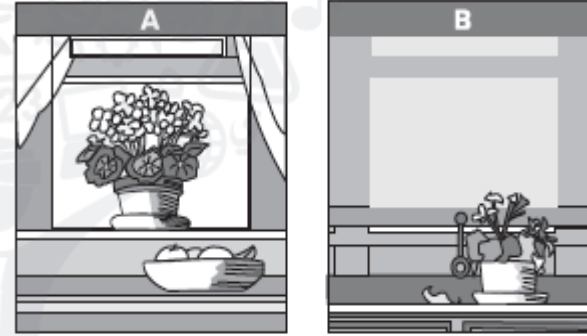
10. ما الذي يُمثّل قاعدةً أمانٍ مهمّةً ينبغي اتّباعها عند إجراء تحقّيقٍ علميٍّ؟

- A طرْحُ الأسئلة عند الانتهاء من التّحقيق فقط.
B قراءة الخطّوة الأخيرة في تحقّيقٍ معيّن فقط.
C تجنّب غسل الأيدي بعد إجراء التّحقيق.
D إزدياد النظارات الواقية وملابس الحماية في أثناء التّعامل مع الموادّ الكيميائيّة.

6. لماذا قد يَرغبُ العلماءُ في حسابِ مدى مجموعة بياناتٍ؟

- A لتحديد الرّقم الأوسط في مجموعة البيانات.
B لفهم كمّ الاختلافات في مجموعة البيانات.
C للتأكد من اتّباع الإجراء بشكلٍ صحيحٍ.
D لتحديد أصغر رقمٍ في مجموعة البيانات.

7. ما المتغيّر المستقلُّ في التّجربة أدناه؟



- A نوع الثّبات.
B سلامة الثّبات.
C كمّيّة ضوء السّمس.
D عدّد الأزهار.

8. ما الأداة التي سيستخدّمها العلماءُ لحسابِ حجمِ كمّيّة صغيرة من الماء؟

- A مخبّار مدرّج.
B مقياس درّجة الحرارة.
C ميزانٍ.
D جهازٌ حاسوبٍ.

B -6


D -9

D -10

C -7

A -8

مهن في العلوم



▲ يراقب عالم الفلك النجوم والكواكب.

عالم الفلك.

هل أنت مهتمّ بالبحث عن الكواكب حول النجوم البعيدة أو مشاهدة أنظمة شمسية تتكوّن؟

يدرس علماء الفلك النجوم، ويتعرّفون إلى كواكب وشموس أخرى في الكون، وإذا كنت عالم فلك فإليك ستستخدم التلسكوبات والأقمار الصناعية لجمع البيانات حول أنظمة شمسية أخرى، ثم سترغب في تفسير تلك البيانات للتعرف إلى تكوين النجوم والكواكب، وكَم عمرها.

ولكي تصبح عالم فلك ستحتاج إلى الإجابة في الرياضيات والفيزياء، والتّمع بمهارات جيّدة في الحاسوب، والحصول على درجة الدكتوراه في الفلك، وبعد ذلك قد تقول: إله لا يفتئ شيء أمانك!

نشاط لاصفي
بحث ...

أكتب عن ذلك

كيف قد يكون أخذ الأيام في حياة عالم فلك؟ أكتب إفتناجية لصحيفة من وجهة نظرك عالم فلك، وصف نظامك اليومي، وأية إكتشافات قمت بها.



الفيديوهات العلمية



تنفيذ: أحمد حجازي



المجاهر

عيسى صيف الله



Made by DU Recorder

Made With
VivaVideo

بِسْمِ اللَّهِ الرَّحْمَنِ الرَّحِيمِ

وَقُلْ اَعْمَلُوا فَسَيَرَى اللَّهُ

عَمَلَكُمْ وَرَسُولَهُ وَالْمُؤْمِنُونَ



الْحَقِّقِ
الْعِظَمِ

الحمد لله

Alhamdulillah
Praise To God

تم - Done